

DEFI MATHS DE LA RENTRÉE

MON EQUIPE :

SCORE

... / 90

DEFI N°1 : LES ADDITION CACHEES

.... / 15 PT

Il y a 15 additions cachées dans ce tableau, trouvez-les !

5 + 3 = 8	0	1	15		
4	9	12	6	1	10
12	5	4	4	2	3
2	1	3	5	17	3
10	11	4	9	13	6
7	7	14	8	5	10
0	8	3	6	0	6
3	7	10	2	13	7
8	15	2	4	9	3
11	5	6	8	4	10
7	2	9	3	12	5
5	14	8	11	5	15

DEFI N°2 : CHEZ LE FLEURISTE

.... / 30 PT

Françoise a 3 sortes de fleurs :



Des tulipes

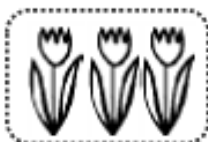


des marguerites



des roses

Elle veut faire des bouquets de 3 fleurs. En voici des exemples :

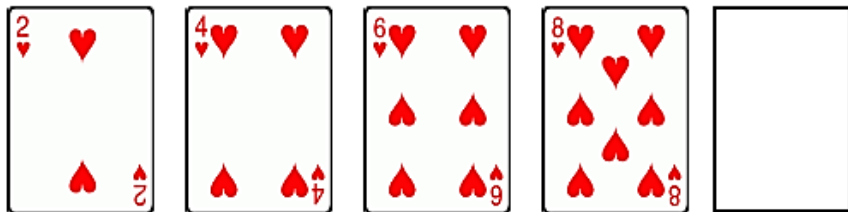
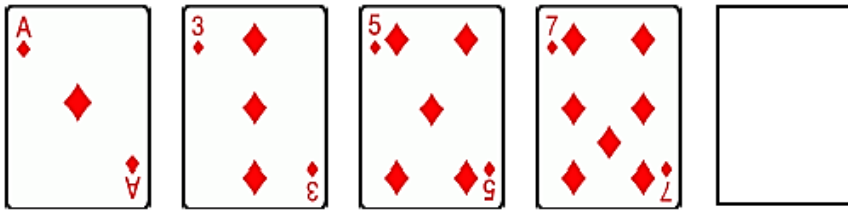


Combien de bouquets différents peut-elle faire ?

DEFI N°3 : SERIE DE CARTES

... / 8 PT

Dessinez la carte manquante dans chaque série !



DEFI N°4 : POTION MAGIQUE

... / 12 PT

Pour réaliser sa potion magique, la sorcière utilise un escargot, de la bave de crapaud, un serpent, de l'herbe, un jus de citron, du sel.
Dans sa marmite, elle met les ingrédients dans un ordre précis.

Retrouve l'ordre à l'aide de ces renseignements :

- La dernière opération est de saler.
- Elle met à cuire le serpent juste avant l'escargot.
- L'herbe est jetée en premier dans la marmite.
- La bave de crapaud est l'ingrédient n°4.



Ordre des ingrédients :

1 :

4 :

2 :

5 :

3 :

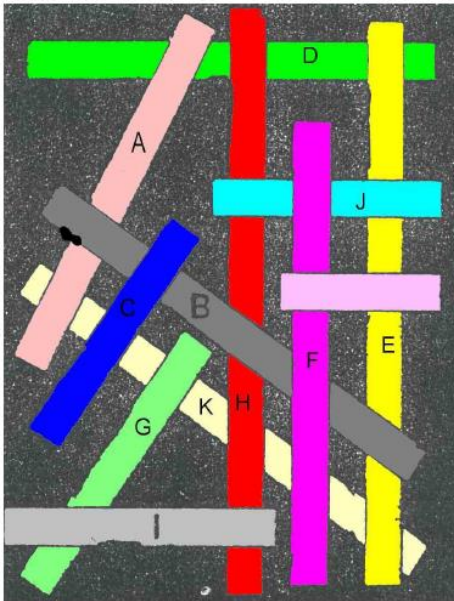
6 :

DEFI N°5 : LES BAGUETTES

.... / 10 PT

Océane a laissé tomber des baguettes de différentes tailles par terre et elles se sont toutes mélangées.

A vous de retrouver la baguette la plus longue et la baguette la plus courte !



Baguette la plus longue :

Baguette la plus courte :

DEFI N°6 : LA COCOTTE

.... / 15 PT

Découpe les 4 pièces et essaie de refaire la cocotte suivante :



