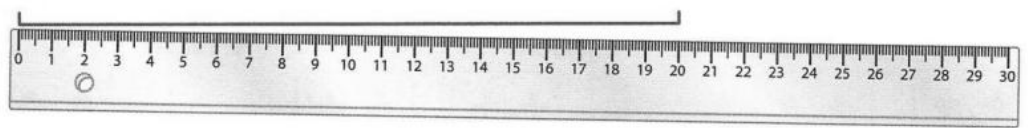
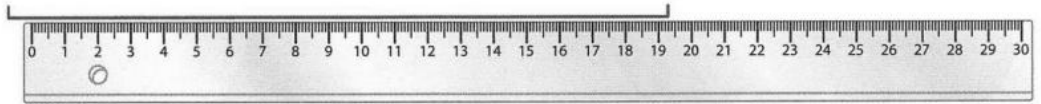


Niveau 1

Essais



Tom, Lisa et Mathis mesurent un segment avec leur règle graduée. Deux enfants commettent des erreurs. Complète les phrases avec le prénom qui convient :





- ne place pas la règle exactement sur la ligne.
- ne place pas correctement le zéro de la règle à l'extrémité du segment.
- place la règle correctement.

Niveau 2

Essais



Mesure la longueur de chaque segment, donne ta réponse de deux façons :






AB = cm mm	CD = cm mm	EF = cm mm	GH = cm mm
AB = mm	CD = mm	EF = mm	GH = mm

Niveau 3

Essais




Complète les phrases :



- Le segment AB mesure 1 cm 6 mm ou 16 mm.
- Le segment mesure 3 cm 8 mm ou mm.
- Le segment mesure 4 cm 2 mm ou mm.
- Le segment mesure cm mm ou 25 mm.



Mesure la longueur de chaque segment, écris tes réponses dans le tableau :



segment	longueur
AB
BC
CD
DE
EF