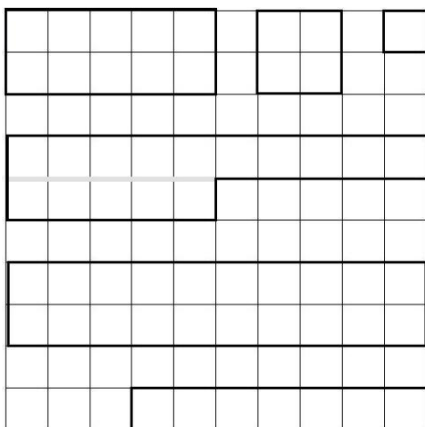


Quelle fraction de ce carré est coloriée en :



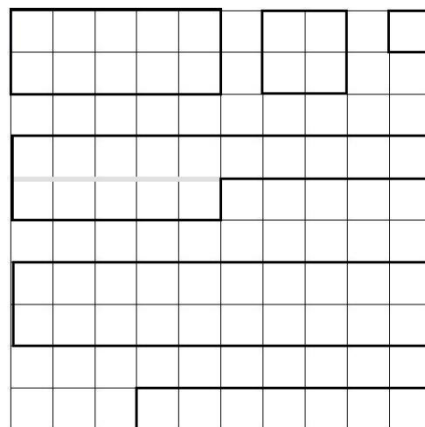
Orange : ___ Rose : ___

Rouge : ___ Jaune : ___

Vert : ___ Bleu : ___

Quelle fraction de ce carré n'est pas coloriée? ___

Quelle fraction de ce carré est coloriée en :



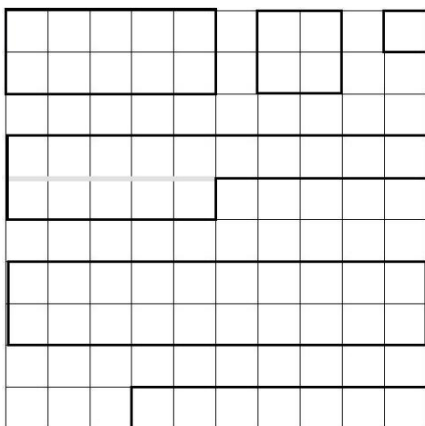
Orange : ___ Rose : ___

Rouge : ___ Jaune : ___

Vert : ___ Bleu : ___

Quelle fraction de ce carré n'est pas coloriée? ___

Quelle fraction de ce carré est coloriée en :



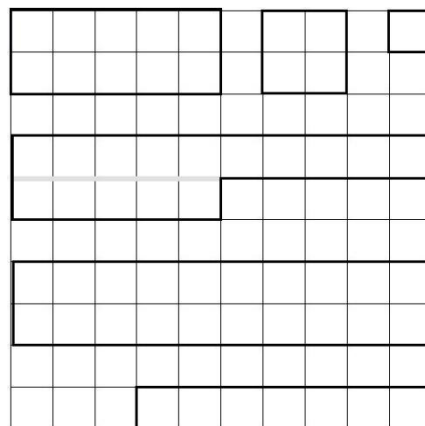
Orange : ___ Rose : ___

Rouge : ___ Jaune : ___

Vert : ___ Bleu : ___

Quelle fraction de ce carré n'est pas coloriée? ___

Quelle fraction de ce carré est coloriée en :



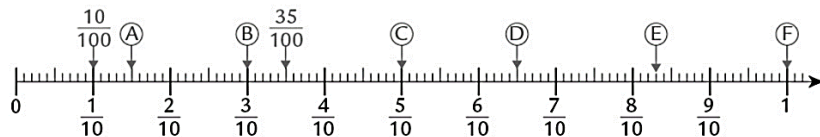
Orange : ___ Rose : ___

Rouge : ___ Jaune : ___

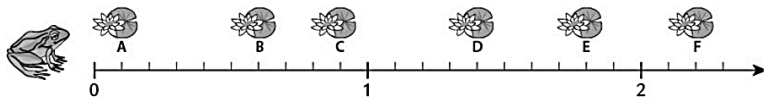
Vert : ___ Bleu : ___

Quelle fraction de ce carré n'est pas coloriée? ___

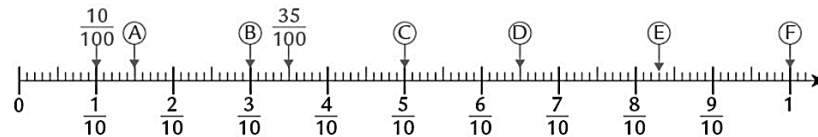
Ex1 • Quelle fraction correspond à chaque lettre ?



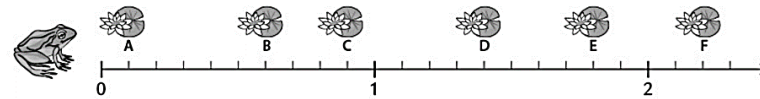
Ex2 • Quelle fraction représente chaque nénufar ?



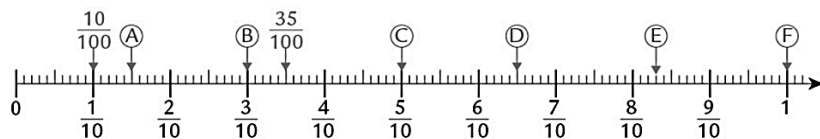
Ex1 • Quelle fraction correspond à chaque lettre ?



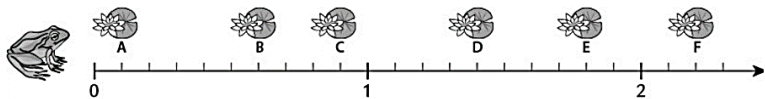
Ex2 • Quelle fraction représente chaque nénufar ?



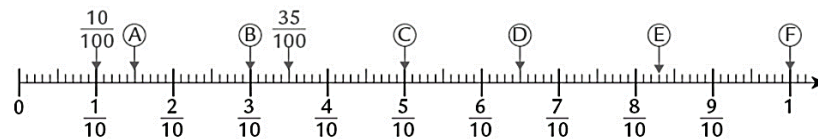
Ex1 • Quelle fraction correspond à chaque lettre ?



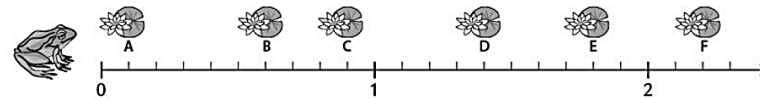
Ex2 • Quelle fraction représente chaque nénufar ?



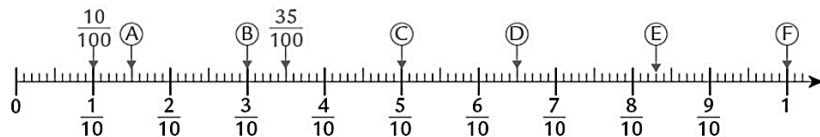
Ex1 • Quelle fraction correspond à chaque lettre ?



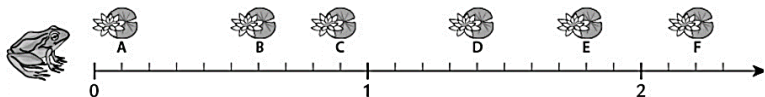
Ex2 • Quelle fraction représente chaque nénufar ?



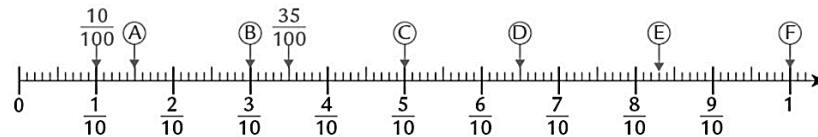
Ex1 • Quelle fraction correspond à chaque lettre ?



Ex2 • Quelle fraction représente chaque nénufar ?



Ex1 • Quelle fraction correspond à chaque lettre ?



Ex2 • Quelle fraction représente chaque nénufar ?

