

Date :

Prénom :

Calcul

Le nombre 50



1. Classe par ordre de grandeur croissante. (du plus petit au plus grand)

90 60 32 50 24 72 48 96
.....

2. Situe les nombres.

- 50 c'est 25 de plus que
- 50 c'est 50 de moins que
- 50 c'est 5 de plus que
- 50 c'est 12 de moins que
- 50 c'est de plus que 40
- 50 c'est de moins que 72

3. <, >, =

....
(2 x 25)	... (50 : 2)
....
(5 x 10)	... (25 + 25)
....
(50 - 25)	... (25 x 2)
....
(50 : 10)	... (50 : 5)

4. Entoure les calculs = à 50

10 x 5

25 x 3

25 + 25

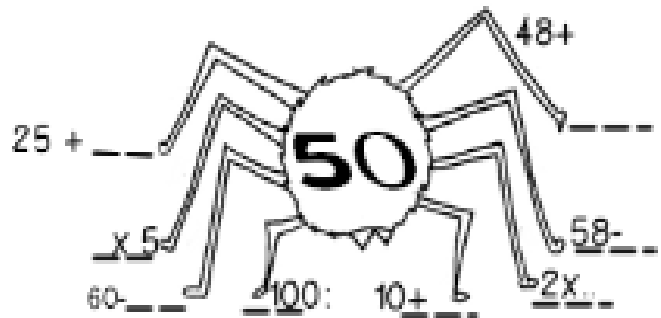
75 - 50

48 + 2

5. Ecris les bons signes : +, -, x, :

25	25	50		50	25	25
50	2	25		50	5	10
1	50	50				

6. Araignée : les réponses des calculs doivent être 50.



7. Invente pour faire 50. (Attention : pas de 0 ni de 1 !)

- + = 50
- + + = 50
- - = 50
- (..... +) x = 50

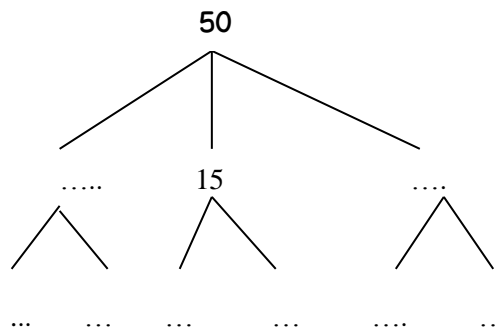
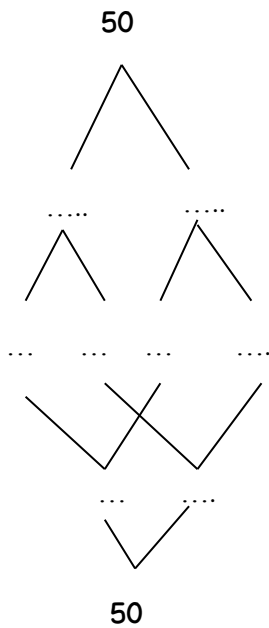


Date :

Prénom :

Calcul

8. Complète les arbres.



9. place les nombres sur la droite graduée.

50 – 40 – 55 – 60- 70 - 65

