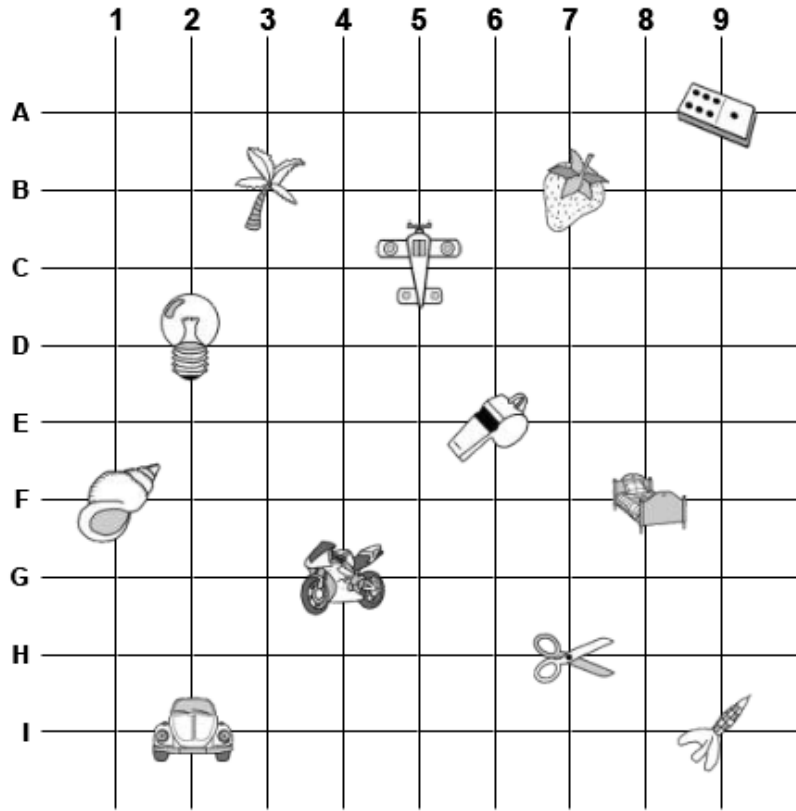














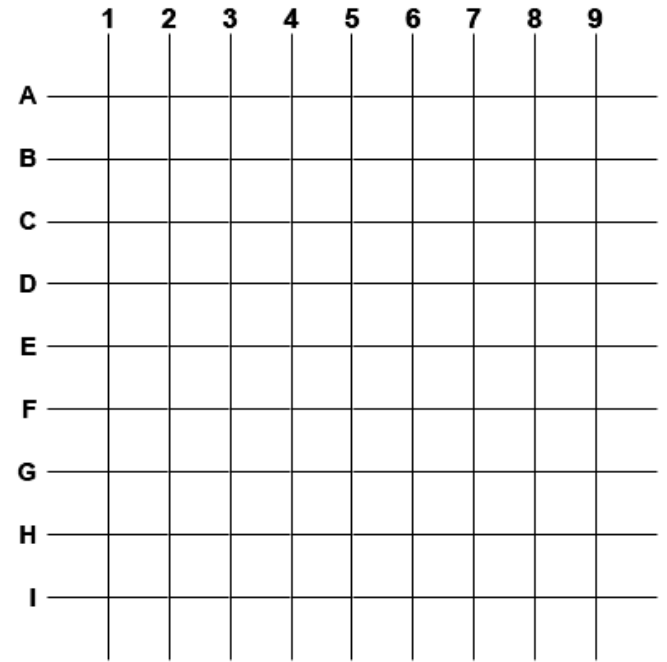
Trouve les coordonnées de chaque objet.



	(__ , __)		(__ , __)		(__ , __)
	(__ , __)		(__ , __)		(__ , __)
	(__ , __)		(__ , __)		(__ , __)
	(__ , __)		(__ , __)		(__ , __)

1. Donne une couleur à chaque point et place-les sur le quadrillage.

- (A , 6)
- (E , 8)
- (G , 5)
- (I , 9)
- (H , 4)
- (F , 8)
- (D , 2)
- (A , 6)



2. Ecris les coordonnées de chaque objet.

- (__ , __)
- ★ (__ , __)
- (__ , __)
- ◆ (__ , __)
- ▲ (__ , __)
- ♥ (__ , __)

