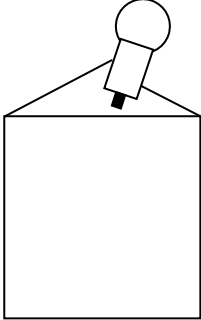

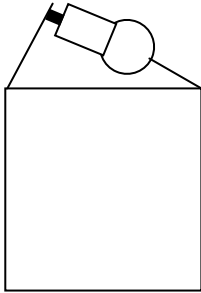
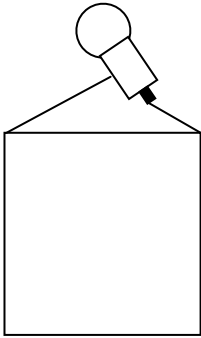


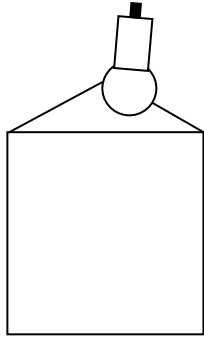
Fiche 2 : Une pile plate, une ampoule, pas de fil

Prénom : _____

Savoir lire un schéma. Savoir repérer les contacts d'une ampoule et d'une pile.
Réalise les montages suivants et réponds aux questions.


<p>1</p> 	<p>L'ampoule brille-t-elle ?</p>
<p>2</p> 	<p>L'ampoule brille-t-elle ?</p>
<p>3</p> 	<p>L'ampoule brille-t-elle ?</p>
<p>4</p> 	<p>L'ampoule brille-t-elle ?</p>

5



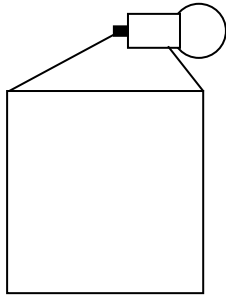
L'ampoule brille-t-elle ?

6



L'ampoule brille-t-elle ?

7



L'ampoule brille-t-elle ?

Dans quelles situations l'ampoule a -t-elle brillé ?

Quelles différences constates-tu entre le cas 4 et le cas 7 ?

Quelles sont les parties de contact de la pile plate ? de l'ampoule ? (mets des points rouges)

