
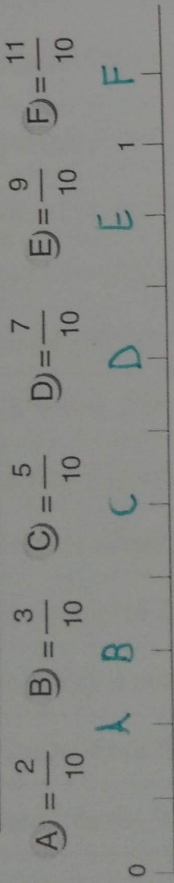




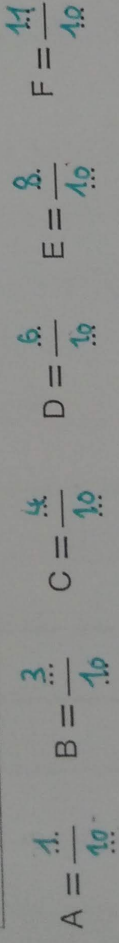
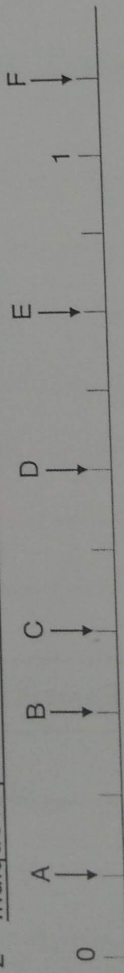
Connaître les fractions décimales



1- Place les fractions sur les droites.



2- Indique la position des lettres par une fraction.



3- Écris ces fractions en lettres.

$$\frac{7}{10} \quad \frac{44}{100} \quad \frac{25}{1000}$$

Sept... dixièmes. quarante... quatre... centièmes. vingt... cinq... millièmes.

4- Écris ces fractions en chiffres.

deux dixièmes : $\frac{2}{10}$

trente-deux centièmes : $\frac{32}{100}$

quarante-trois dixièmes : $\frac{43}{10}$

vingt-huit millièmes : $\frac{28}{1000}$

cent-douze centièmes : $\frac{112}{100}$

sept millièmes : $\frac{7}{1000}$

5- Entoure d'une même couleur les fractions équivalentes.

