

Exercice 1 : Quelle heure est-il ? **Mémo II**



★ a)

Il est _____.



★ b)

Il est _____.



★★ c)

Il est _____.



★★★★ d)

Il est _____.

Exercice 2 : Prends 4 horloges mobiles et positionne les aiguilles comme indiqué.

★ a)

1 h 15

★ b)

2 h 30

★★ c)

14 h 45

★★★★ d)

3 h 00

Exercice 1 : Quelle heure est-il ? **Mémo II**



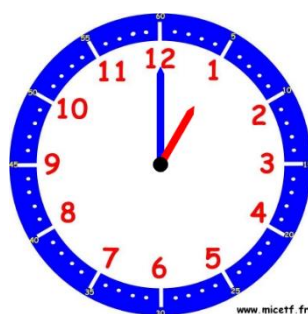
★ a)

Il est _____.



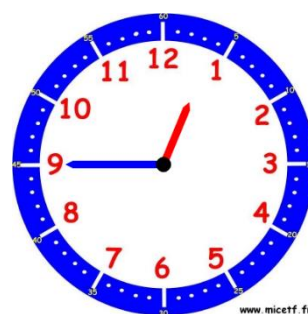
★ b)

Il est _____.



★★ c)

Il est _____.



★★★★ d)

Il est _____.

Exercice 2 : Prends 4 horloges mobiles et positionne les aiguilles comme indiqué.

★ a)

13 h 00

★ b)

12 h 30

★★ c)

00 h 00

★★★★ d)

16 h 15

Exercice 1 : Quelle heure est-il ? **Mémo II**



★ a)

Il est _____.



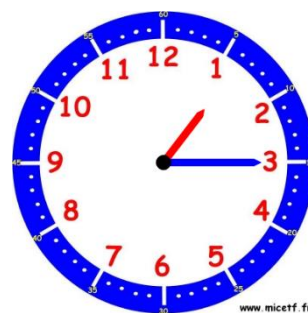
★ b)

Il est _____.



★★ c)

Il est _____.



★★★ d)

Il est _____.

Exercice 2 : Prends 4 horloges mobiles et positionne les aiguilles comme indiqué.

★ a)

3 h 30

★ b)

11 h 15

★★ c)

17 h 00

★★★ d)

9 h 45

Exercice 1 : Quelle heure est-il ? **Mémo II**



★ a)

Il est _____.



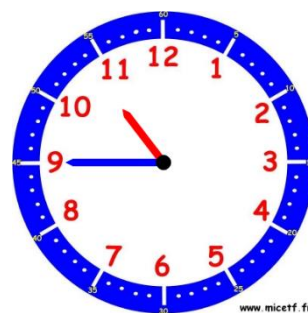
★ b)

Il est _____.



★★ c)

Il est _____.



★★★ d)

Il est _____.

Exercice 2 : Prends 4 horloges mobiles et positionne les aiguilles comme indiqué.

★ a)

15 h 00

★ b)

1 h 15

★★ c)

6 h 30

★★★ d)

8 h 45

Exercice 1 : Quelle heure est-il ? **Mémo II**



★ a)

Il est _____.



★ b)

Il est _____.



★★ c)

Il est _____.



★★★ d)

Il est _____.

Exercice 2 : Prends 4 horloges mobiles et positionne les aiguilles comme indiqué.

★ a)

8 h 15

★ b)

10 h 00

★★ c)

23 h 45

★★★ d)

4 h 30

Exercice 1 : Quelle heure est-il ? **Mémo II**



★ a)

Il est _____.



★ b)

Il est _____.



★★ c)

Il est _____.



★★★ d)

Il est _____.

Exercice 2 : Prends 4 horloges mobiles et positionne les aiguilles comme indiqué.

★ a)

7 h 00

★ b)

18 h 30

★★ c)

14 h 15

★★★ d)

9 h 45

Exercice 1 : Quelle heure est-il ? **Mémo II**



★ a)

Il est _____.



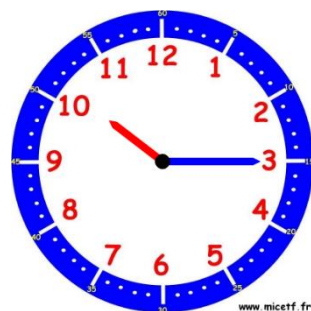
★ b)

Il est _____.



★★ c)

Il est _____.



★★★★ d)

Il est _____.

Exercice 2 : Prends 4 horloges mobiles et positionne les aiguilles comme indiqué.

★ a)

22 h 00

★ b)

12 h 45

★★ c)

6 h 15

★★★★ d)

9 h 30

Exercice 1 : Quelle heure est-il ? **Mémo II**



★ a)

Il est _____.



★ b)

Il est _____.



★★ c)

Il est _____.



★★★★ d)

Il est _____.

Exercice 2 : Prends 4 horloges mobiles et positionne les aiguilles comme indiqué.

★ a)

17 h 45

★ b)

6 h 00

★★ c)

19 h 30

★★★★ d)

13 h 15

Compétence : Lire l'heure (heures pleines, demi-heures, quarts d'heures) + positionner les aiguilles pour composer une heure donnée

Exercice 1 : Quelle heure est-il ?



a)

Il est _____.



b)

Il est _____.



c)

Il est _____.



d)

Il est _____.

Exercice 2 : Prends 4 horloges mobiles et positionne les aiguilles comme indiqué.

a)

6 h 45

b)

7 h 15

c)

22 h 45

d)

12 h 30