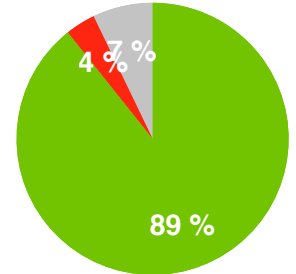
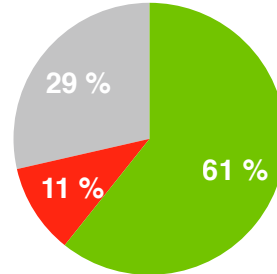


Répartition des réponses

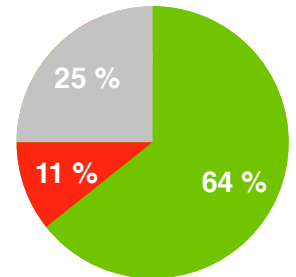
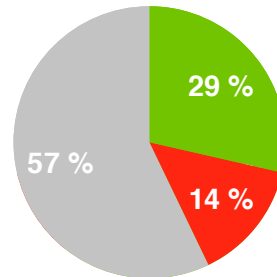
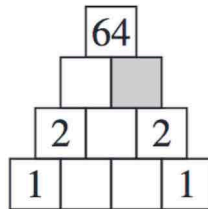
après recherche individuelle

après recherche à plusieurs

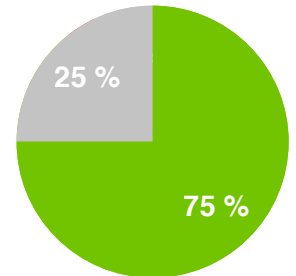
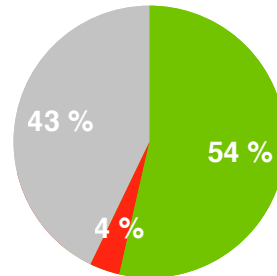
Quand il ne dort pas, Koko le koala mange 5 feuilles par heure.
Hier, il a dormi 20 heures sur 24.
Combien de feuilles Koko a-t-il mangées hier ?



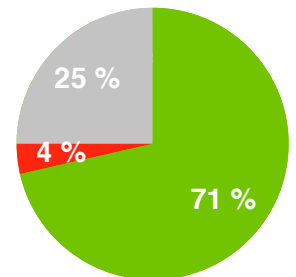
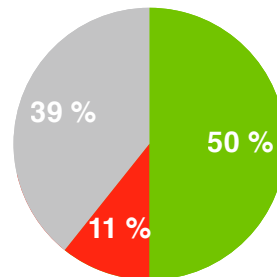
On remplit la pyramide de nombres.
Dans chaque case (sauf celles du bas), le nombre écrit est obtenu en multipliant les deux nombres écrits en dessous.
Quel nombre doit être écrit dans la case grise ?



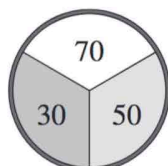
Il y avait des bonbons dans un bol.
Soline en a pris la moitié. Puis Clara a pris la moitié des bonbons laissés par Soline.
Alors, il n'y avait plus que 6 bonbons dans le bol.
Combien y avait-il de bonbons dans le bol au début ?



Les 2 escargots, Dodo et Mimi, sont placés aux 2 extrémités d'une planche de 90 cm.
Dix minutes plus tard, Dodo a avancé de 20 cm vers Mimi et Mimi a avancé de 35 cm vers Dodo.
À quelle distance l'un de l'autre sont alors les 2 escargots ?



Gilda joue aux fléchettes en visant la cible représentée ci-contre. Une fléchette rapporte 30, 50 ou 70 points si elle atteint la cible.
Gilda a tiré deux fléchettes. Quel score n'a-t-elle pas pu obtenir ?



70 - 80 - 90 - 100

erreur dans l'énoncé

