


Défi n°2

Comment allumer l'ampoule avec la pile ronde ?


Matériel :



Dessine l'ampoule, la pile et le fil électrique en montrant comment tu les positionnes pour que l'ampoule s'allume.



Colorie l'ampoule en jaune quand elle s'allume.



Complète la conclusion avec : borne - culot - plot

Pour allumer l'ampoule, il faut placer son _____ sur une des deux _____ de la pile et relier avec le fil électrique son _____ sur l'autre borne.



Défi n°3

Comment allumer deux ampoules en même temps ?

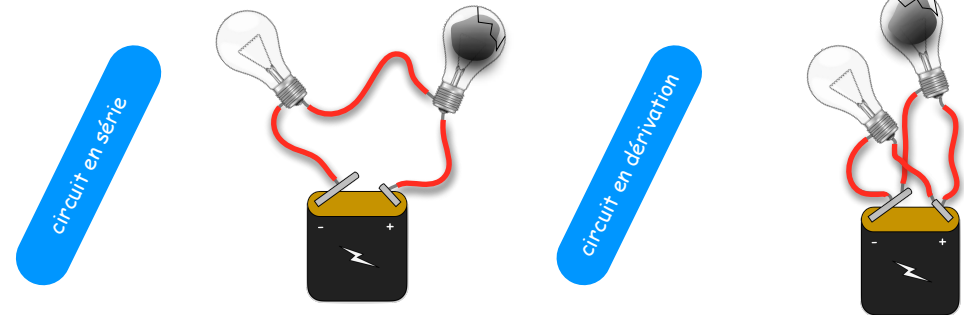
Matériel :



Dessine les deux circuits possibles pour que les deux ampoules brillent.



Colorie en jaune l'ampoule qui s'allume.



Complète la conclusion.

Pour allumer les deux ampoules, il faut monter un circuit en _____ ou en _____. Dans un circuit en _____, si une ampoule grille, plus aucune ne fonctionne.