

Fils numériques

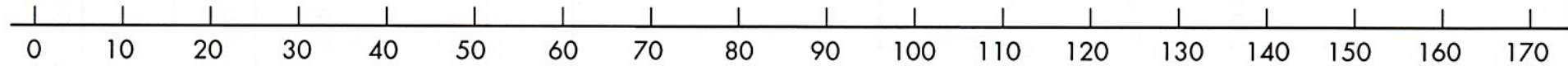
Essaie de montrer sur chacun de ces fils où se situent les nombres suivants :

8 16 32 64 160 320 640 1 600 3 200 6 400 16 00 32 000

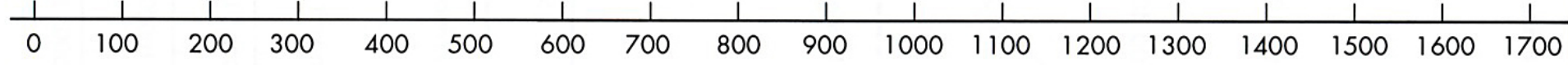
Fil 1




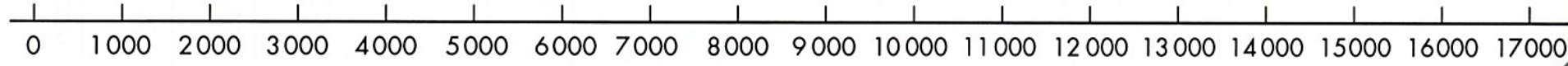
Fil 2



Fil 3




Fil 4




1 Numérote les points pour bien montrer sur le même fil les nombres : 10 25 100 120 135



2 Numérote les points pour bien montrer sur le même fil les nombres : 10 25 100 120 135 500 750



3 Numérote les points pour bien montrer sur le même fil les nombres : 10 25 100 120 135 500 750 5 000 7 500



4 Numérote les points pour bien montrer sur le même fil les nombres : 341 345 347 348 353

