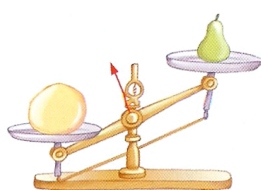




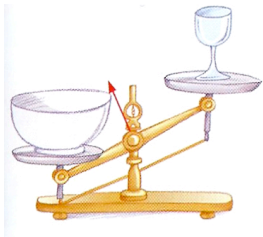


Mesurer des masses.

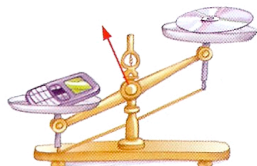
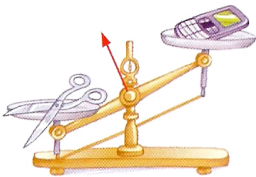
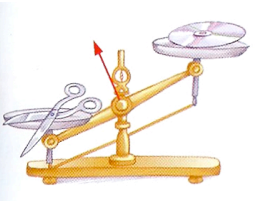
1. Ecris le nom de l'objet le plus lourd sur chaque balance.



2. Range les objets du plus lourd au plus léger : le saladier, le verre, le pichet.

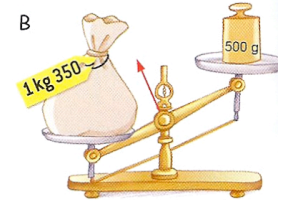
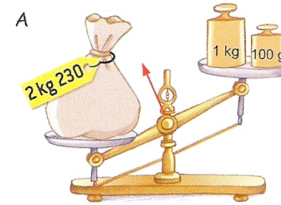


3. Range les objets du plus léger au plus lourd : les ciseaux, le CD, le téléphone.



Mesurer des masses.

1. Quelles masses marquées faut-il mettre sur les plateaux pour équilibrer les balances ?



2. Observe les pesées, puis réponds aux questions.



- Combien pèse Tim ?
- Combien pèse le chat ?
- Combien pèsent ensemble Tim, Leslie et le chat ?