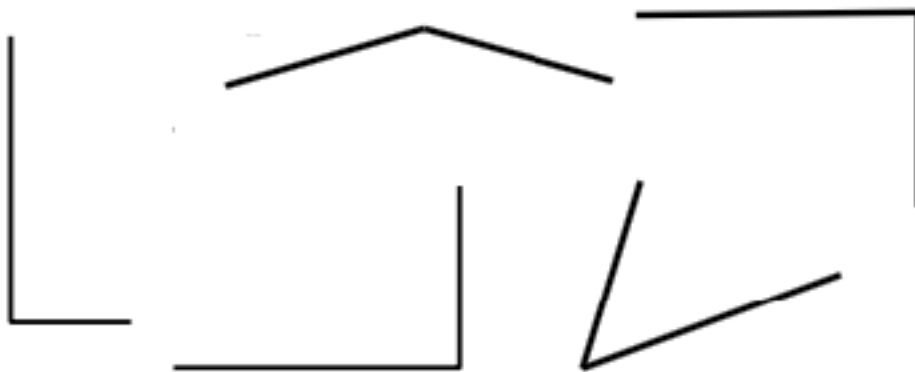


Exercices CE1 - Les angles droits

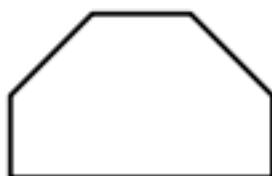
1 Les angles droits. Marque chaque angle droit d'un petit carré.



2 Les angles droits : Marque chaque angle droit d'un petit carré.



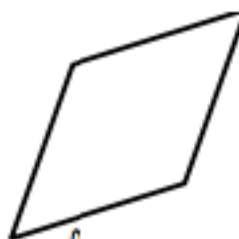
3 Écris le nombre d'angles droits de chaque polygone.



... angles droits



... angles droits



... angle droit

Attention, il y a un piège !

