

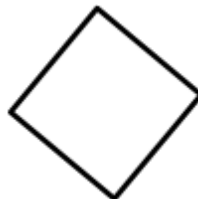

**G 03**

**Reconnaître les figures géométriques**




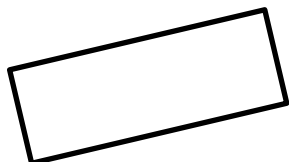
**Le carré**

4 angles  
4 côtés de même longueur.



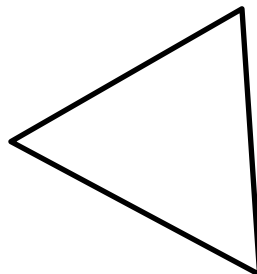
**Le rectangle**

4 angles  
4 côtés qui ne sont pas de la même longueur :  
2 petits et 2 grands





**Le triangle**

Il a 3 angles et 3 côtés.



**Le cercle**




**G 03**

**Reconnaître les figures géométriques**



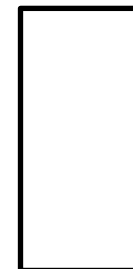
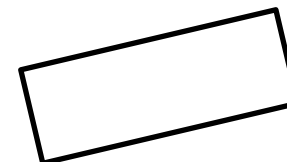
**Le carré**

4 angles  
4 côtés de même longueur.



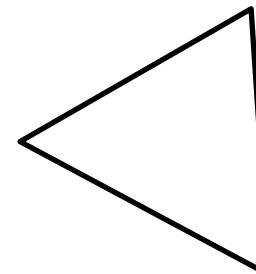
**Le rectangle**

4 angles  
4 côtés qui ne sont pas de la même longueur :  
2 petits et 2 grands



**Le triangle**

Il a 3 angles et 3 côtés.



**Le cercle**

