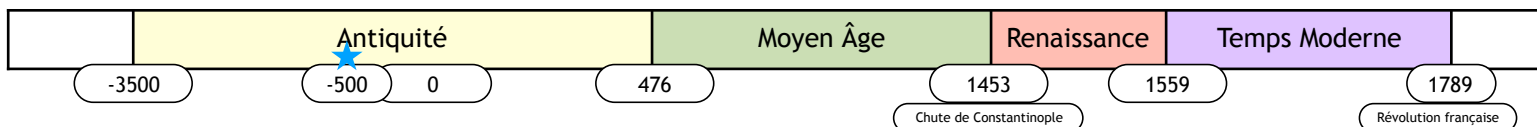


Nom: .....



- HGDOC1. Je sais présenter un document.
- HGDOC 2. Je comprends le sens général d'un document.

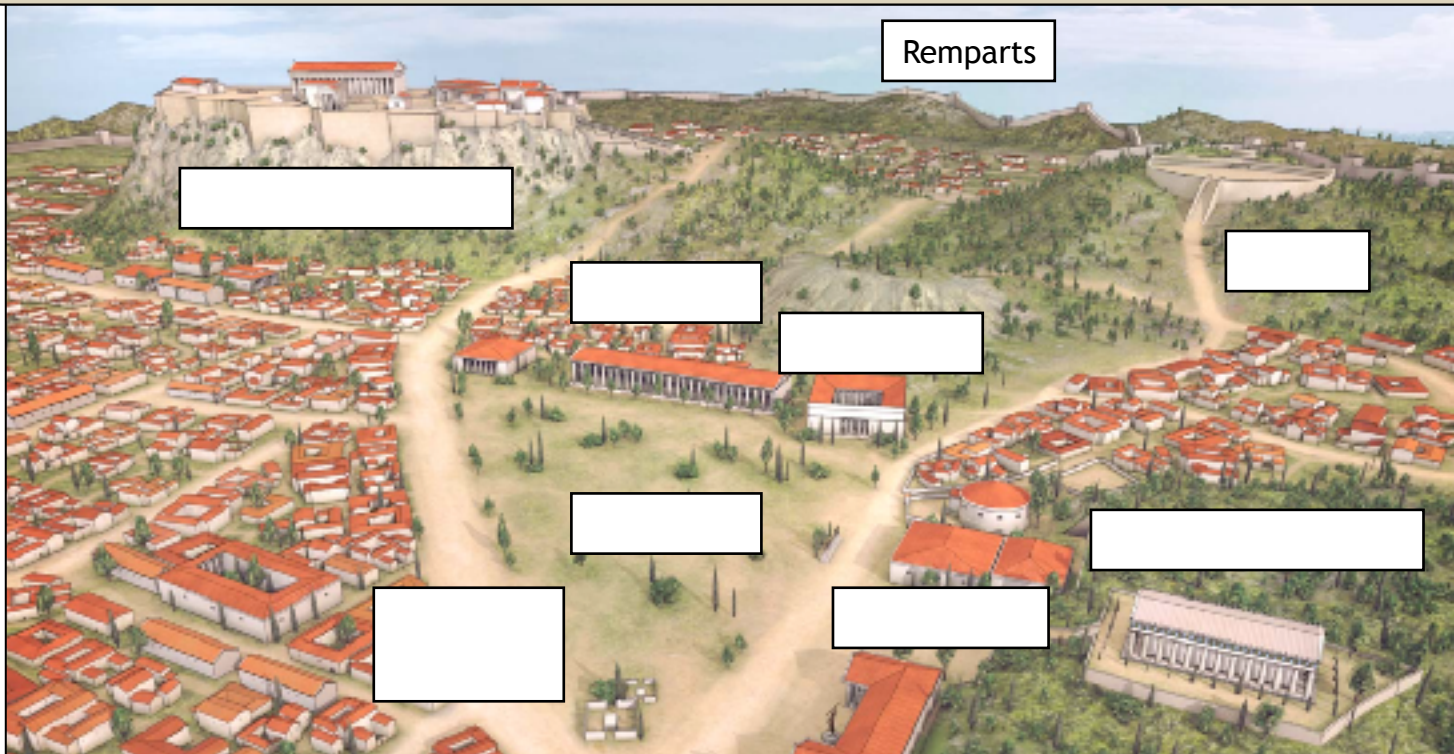
Contrairement à une majorité de cités grecques, Athènes, depuis le début du Ve siècle avant Jésus-Christ est une démocratie.

La démocratie est une forme de gouvernement dans laquelle les citoyens dirigent la vie de la cité.

Doc. 1° L'organisation politique d'Athènes

Acropole	Colline principale où se trouve le Parthénon.
Agora	Place publique de la cité d'Athènes.
Chemin des Panathéens	Axe principal qui mène à l'Acropole.
Hélié	Tribunal de forme rectangulaire à proximité de l'Agora.
Pnyx	Colline où l'Ecclésia, l'assemblée des magistrats, se réunissait.
Écclésia	Assemblée de magistrats qui vote les lois.
Stratègeion	Édifice carré où exercent les chefs militaires appelés stratèges.
Bouleutérion	Conseil de 500 citoyens qui proposait les lois à l'Écclésia.
Temple d'Héphaïstos	Temple remarquable par ses grandes colonnes doriques.

Doc. 2° Reconstitution de la ville d'Athènes durant l'Antiquité



1° À partir du document 1, complète le document 2 avec les mots suivants:

Pnyx, Agora, Chemin des Panathéens, Bouleutérion, Acropole, Stratègeion, Temple d'Héphaïstos

## Questions


1° En t'aidant des leçons précédentes, pourquoi peut-on dire qu'Athènes est une cité?

2° Comment appelle-t-on les chefs militaires?

3° Comment s'appelle l'assemblée de magistrats qui siège sur la colline Pnyx?

4° Comment s'appelle le tribunal de la ville d'Athènes?

## Doc. 3° La colline de l'Acropole



Parthénon	Temple principal de l'Acropole.
Temple d'Érechthion	Temple du roi légendaire d'Athènes à l'intérieur des remparts.
Temple d'Athéna Niké	Temple d'Athéna à l'extérieur des remparts.
Propylée	Porte principale de l'Acropole.

1° À partir du tableau ci-dessus, complète la vue de la colline de l'Acropole avec les mots suivants

Temple d'Érechthion, Parthénon, Temple d'Athéna Niké, Propylée, Statue d'Athéna

## À retenir

À Athènes, les citoyens exerçaient la **démocratie**, c'est-à-dire qu'ils possédaient le pouvoir politique. Les citoyens votent les lois et élisent les magistrats au sein de l'assemblée qui s'appelle **l'Ecclésia**. Les magistrats, les plus importants, qui commandent les armées s'appellent les **stratèges**. Il existe d'autres institutions comme le bouleuterion ou **l'Hélié** qui est un tribunal.



La Grèce durant l'Antiquité



Plan de la ville d'Athènes

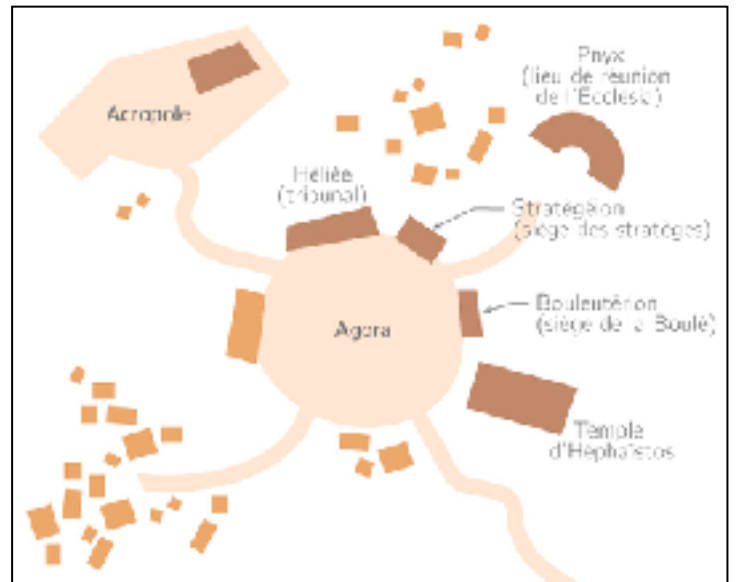


Schéma de la ville d'Athènes