


Choisis un problème, et sur ton cahier réponds à la question : tu dois écrire une égalité, et si tu en as besoin fais un schéma.


La maîtresse a reçu 100 boîtes de 3 stylos dans un carton.

Combien y a-t-il de stylos dans ce carton ?



En vacances chez sa grand-mère, Alice mange 2 pommes par jour. Alice reste une semaine chez sa grand-mère.


Combien Alice mange-t-elle de pommes ?



Choisis un problème, et sur ton cahier réponds à la question : tu dois écrire une égalité, et si tu en as besoin fais un schéma.

La maîtresse a reçu 100 boîtes de 3 stylos dans un carton.

Combien y a-t-il de stylos dans ce carton ?



En vacances chez sa grand-mère, Alice mange 2 pommes par jour. Alice reste une semaine chez sa grand-mère.

Combien Alice mange-t-elle de pommes ?

