



0

1

$$\frac{1}{10}$$

$$\frac{2}{10}$$

$$\frac{3}{10}$$

$$\frac{4}{10}$$

$$\frac{5}{10}$$

$$\frac{6}{10}$$

$$\frac{7}{10}$$

$$\frac{8}{10}$$

$$\frac{9}{10}$$

$$\frac{10}{10}$$

$$\frac{1}{5}$$

$$\frac{2}{5}$$

$$\frac{3}{5}$$

$$\frac{4}{5}$$

$$\frac{5}{5}$$

$$\frac{1}{2}$$

$$\frac{2}{2}$$

3

→ Numéro de l'étape


10

→ Nom de l'escargot

Où se trouve l'escargot « dixièmes » ?
A la troisième étape !

L'escargot « DEMIS »

Je partage mon trajet en DEUX.



Etape 0


Etape 1

Etape 2



L'escargot « CINQUIEMES »

Je partage mon trajet en CINQ.



Etape 0

Etape 1

Etape 2

Etape 3

Etape 4

Etape 5

--	--	--	--	--



0

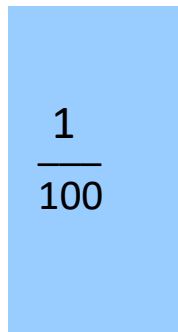
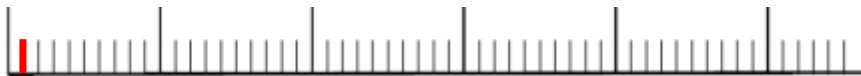
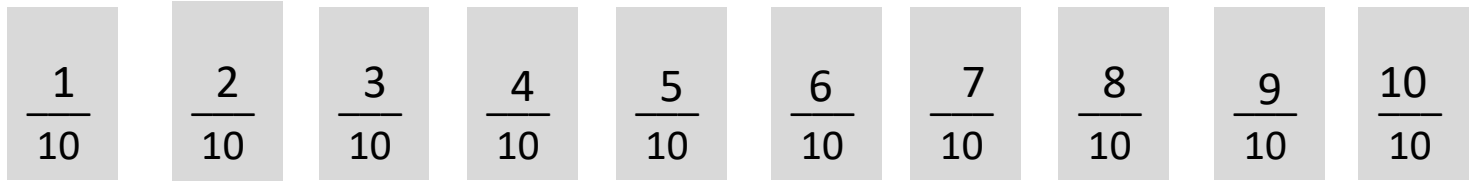
1

$\frac{1}{10}$	$\frac{2}{10}$	$\frac{3}{10}$	$\frac{4}{10}$	$\frac{5}{10}$	$\frac{6}{10}$	$\frac{7}{10}$	$\frac{8}{10}$	$\frac{9}{10}$	$\frac{10}{10}$
0,1	0,2	0,3	0,4	0,5	0,6	0,7	0,8	0,9	1



0


1



0,01

L'escargot « CENTIEMES »

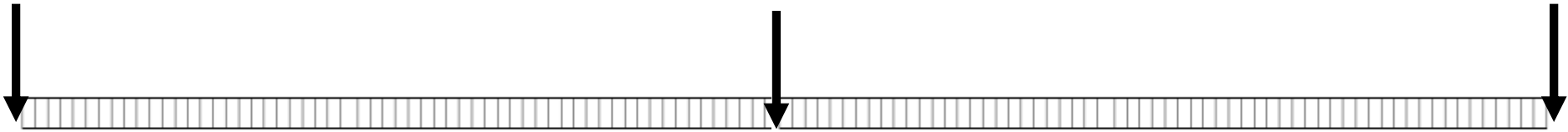
Je partage mon trajet en CENT.



Etape 0

Etape 50

Etape 100



54

→ Numéro de l'étape

100

→ Nom de l'escargot

Où se trouve l'escargot « centièmes » ?

A la 54^{ème} étape !