

Défi calcul mental n°4






Compétence travaillée : Additionner deux chiffres (inférieur à 10)

...../ 20 points

1/ Ecris seulement le résultat.

2/ Problème :

3/ Calcule le plus rapidement possible.

<input type="checkbox"/>		<input type="checkbox"/>		<input type="checkbox"/>	
--------------------------	---	--------------------------	---	--------------------------	---

$4 + 6 = \dots\dots$

$8 + 7 = \dots\dots$

$9 + 5 = \dots\dots$

$5 + 4 = \dots\dots$

$8 + 2 = \dots\dots$

$4 + 3 = \dots\dots$

© Les trouvailles de Karînette

Défi calcul mental n°4






Compétence travaillée : Additionner deux chiffres (inférieur à 10)

...../ 20 points

1/ Ecris seulement le résultat.

2/ Problème :

3/ Calcule le plus rapidement possible.

<input type="checkbox"/>		<input type="checkbox"/>		<input type="checkbox"/>	
--------------------------	---	--------------------------	---	--------------------------	---

$4 + 6 = \dots\dots$

$8 + 7 = \dots\dots$

$9 + 5 = \dots\dots$

$5 + 4 = \dots\dots$

$8 + 2 = \dots\dots$

$4 + 3 = \dots\dots$

© Les trouvailles de Karînette