

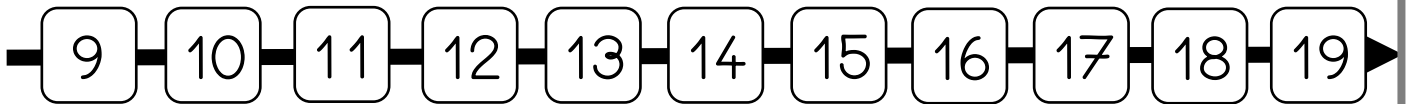
1. Calcul mental :  **Calculer avec des euros**



2. Nommer les nombres de 11 à 19



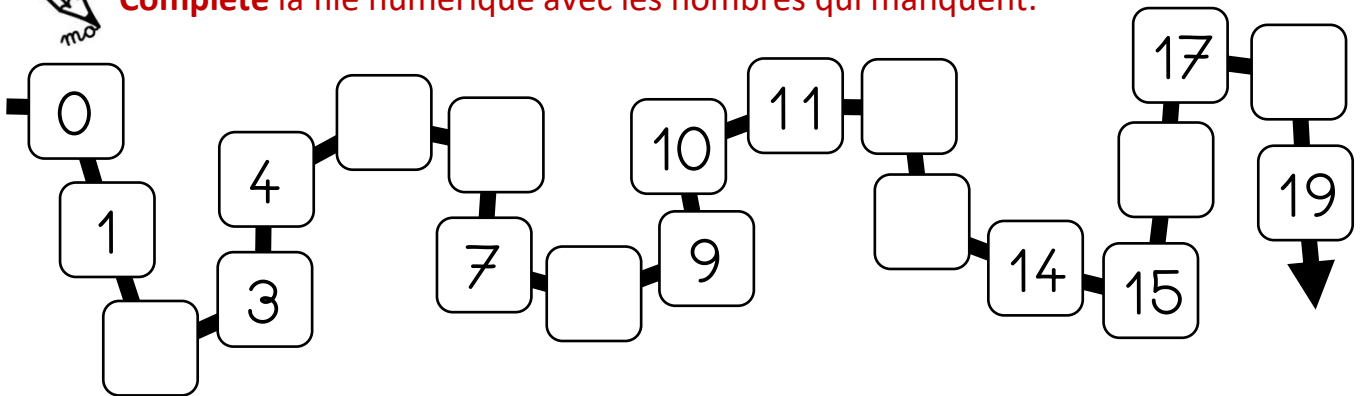
**Repère** les nombres dictés sur la file numérique.



3. Ecrire les nombres de 11 à 19





**Complète** la file numérique avec les nombres qui manquent.



4. Dénombrer jusqu'à 19



**Compte et écris** le nombre d'animaux présents dans chaque enclos.



5. Problème



Ce matin, j'ai acheté 10 gâteaux.  
A midi, nous en avons mangé 4.

**Combien reste-t-il de gâteaux ?**

\_\_\_ - \_\_\_ = \_\_\_

→ il reste \_\_\_ gâteaux.

