

Prénom: _____

Signature des parents

Mon programme:     

Bilan du plan de travail:

- Programme tenu
- Programme non tenu
- Programme dépassé

Commentaire: _____

ORTHOGRAPHE



Trouve pour chaque nom, un verbe de la même famille:

attelage: _____ affirmation: _____

arrosoir: _____ accroc: _____

apprenti: _____ affiche: _____

accusation: _____ offrande : _____

ORTHOGRAPHE



Les mots sont incomplets. Ecris-les en choisissant l'une des terminaisons suivantes:

-au

-eau

-o

-ot

Tu peux t'aider d'un dictionnaire.

un tuy..... - le noy..... - un haric..... - le châ..... - un râ..... - un p..... - la mété..... - l

a noix de coc..... - un morc..... - un cad..... - un paqueb.....

ORTHOGRAPHE



Entoure l'intrus:

- le terreau – le bourreau – le rot – le rameau
- le boyau – le flot – le pot – le mot
- le tuyau – le fléau – un noyau – le couteau
- le bobo – la cacao – le dos – le dodo

VOCABULAIRE



Trouve le mot générique pour chaque liste de mots:

- villa – ferme – chalet - mas: _____
- lustre – plafonnier – lampe de chevet - réverbère: _____
- buffet – table basse - commode: _____

VOCABULAIRE



Complète ces phrases avec un nom générique:

- Les moineaux, les pigeons sont des _____.
- Les carpes, les sardines sont des _____.
- Les colliers, les bagues, les boucles d'oreilles sont des _____.

VOCABULAIRE



Classe chaque liste de mots dans l'ordre alphabétique:

film – finir – file – fixe – fiole – fille - finesse: _____

octave – occuper – oiseau – obus – œuf: _____

MESURE



Complète les égalités:

5 m = cm 2 m = mm 3 m = dm 8 cm = mm

2 000 m = mm 600 cm = dm 30 dm = m 800 mm = dm

MESURE



Ecris les nombres dans la même unité, puis additionne-les::

9 m + 8 dm = + = 3 dm + 400 mm = + =

63 mm + 41 cm = + = 80 cm + 4 dm = + =

NUMERATION



Range les nombres dans l'ordre croissant:

• 745 ; 823 ; 598 : _____


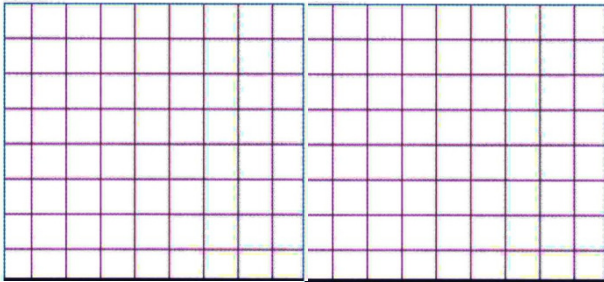
• 903 ; 799 ; 927 : _____

• 781 ; 754 ; 745 : _____

PROBLEME



Mme Jeanne est fleuriste; elle reçoit pour la fête des mères 270 roses rouges. Combien de bouquets de 10 roses peut-elle préparer?




CALCUL




Pose les opérations en colonnes, puis calcule-les:

$749 + 73$





$306 + 258$



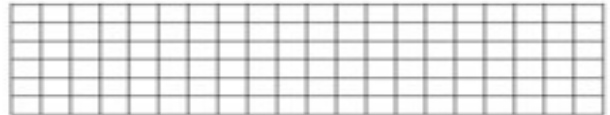

GEOMETRIE



Reproduis cette frise



Reproduis cette frise



LECTURE



Tu peux prendre un livre dans le carton.

GEOMETRIE



Tu peux prendre le fichier de reproduction sur quadrillage et faire une photocopie.

DETENTE



Tu peux prendre le fichier de mandalas et faire une photocopie.