


Les petits chevaux

3 Colorie la moitié des petits chevaux en bleu et l'autre moitié en rouge.
Complète l'addition et calcule.




+ =

Complète comme dans l'exemple.

- | | |
|--|---|
| <input type="text" value="5"/> + <input type="text" value="5"/> = 10 | <input type="text" value="5"/> est la moitié de 10. |
| <input type="text" value=""/> + <input type="text" value=""/> = 20 | <input type="text" value=""/> est la moitié de 20. |
| <input type="text" value=""/> + <input type="text" value=""/> = 12 | <input type="text" value=""/> est la moitié de 12. |
| <input type="text" value=""/> + <input type="text" value=""/> = 18 | <input type="text" value=""/> est la moitié de 18. |
| <input type="text" value=""/> + <input type="text" value=""/> = 14 | <input type="text" value=""/> est la moitié de 14. |

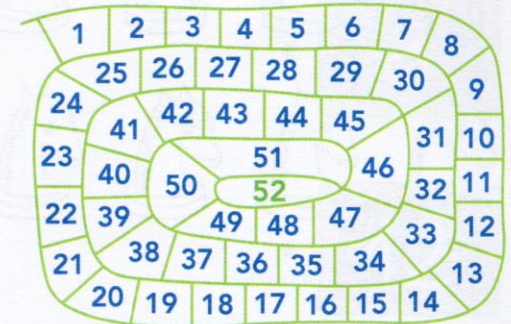

Le gagnant



4 PROBLÈME

Lucas est sur la case 32. Il fait un double 4 .
Maeva est sur la case 30. Elle fait un double 6 .
Sur quelle case chacun arrive-t-il ? Qui gagne ?

Fais tes essais.



Écris la réponse.

Lucas arrive sur la case et Maeva arrive sur la case .

C'est qui gagne.