

Evaluation

Les jours, les mois et les saisons

1- Complète avec le jour précédent ou le jour suivant :

	jeudi	
dimanche		
		lundi

2- Voici quatre images. Ecris à quelle saison, chacune d'entre elles correspond.




C'est

Les mois correspondant à cette saison sont :

Quelle est la date de notre fête nationale qui se déroule pendant cette saison ?

.....



C'est

Les mois correspondant à cette saison sont :


Quels sont les noms des deux jours fériés que l'on rencontre pendant cette saison ?

.....



C'est

Les mois correspondant à cette saison sont :

Quelle est le nom de la fête qui se déroule à cette saison ()?

.....



C'est

Les mois correspondant à cette saison sont :

Quelle est le nom de la fête qui se déroule à cette saison ?

.....

Remets ces quatre saisons dans l'ordre :

3- Relie chaque évènement à la saison correspondante :

Halloween ●

Pâques ●

Fête des mères ●

Mardi-Gras ●



Noël ●

La fin de la 2^{ème} Guerre Mondiale ●
(le 8 mai)





L'Epiphanie ●

La Toussaint ●

Le 1^{er} Janvier ●



4- Complète en cochant les bonnes cases.

				
On fait des batailles de boules de neige.				
Les oiseaux migrateurs reviennent.				
Les animaux font des réserves.				
Les plantes ont besoin d'être arrosées souvent.				
Il y a souvent des giboulées.				
Le père Noël vient nous rendre visite.				
Les feuilles tombent.				