

CHASSE AU TRÉSOR N°4

Cliquer sur chaque étape du programme de construction

Sur [AD] vers le sud, trace le segment [AA'] = 10 cm.

Trace A'A'' parallèle à [AB] et [DC].

Trace le segment [A'B].

Dans le triangle A'AB, trace la médiane [AE] et prolonge la.
Elle doit passer par A''.

Sur [DC], trace le segment [DF] = 2,5 cm.

De F, vers le nord, trace [FG] perpendiculaire à [DC].

Cette droite [FG] coupe la médiane [AE] en J.
C'est là que se trouve le trésor.

Carte vierge



CHASSE AU TRÉSOR N°4

Cliquer sur chaque étape du programme de construction

Sur [AD] vers le sud, trace le segment [AA'] = 10 cm.

Trace A'A'' parallèle à [AB] et [DC].

Trace le segment [A'B].

Dans le triangle A'AB, trace la médiane [AE] et prolonge la. Elle doit passer par A''.

Sur [DC], trace le segment [DF] = 2,5 cm.

De F, vers le nord, trace [FG] perpendiculaire à [DC].

Cette droite [FG] coupe la médiane [AE] en J.
C'est là que se trouve le trésor.

Carte vierge



CHASSE AU TRÉSOR N°4

Cliquer sur chaque étape du programme de construction

Sur [AD] vers le sud, trace le segment [AA'] = 10 cm.

Trace A'A'' parallèle à [AB] et [DC].

Trace le segment [A'B].

Dans le triangle A'AB, trace la médiane [AE] et prolonge la. Elle doit passer par A''.

Sur [DC], trace le segment [DF] = 2,5 cm.

De F, vers le nord, trace [FG] perpendiculaire à [DC].

Cette droite [FG] coupe la médiane [AE] en J.
C'est là que se trouve le trésor.

Carte vierge



CHASSE AU TRÉSOR N°4

Cliquer sur chaque étape du programme de construction

Sur [AD] vers le sud, trace le segment [AA'] = 10 cm.

Trace A'A'' parallèle à [AB] et [DC].

Trace le segment [A'B].

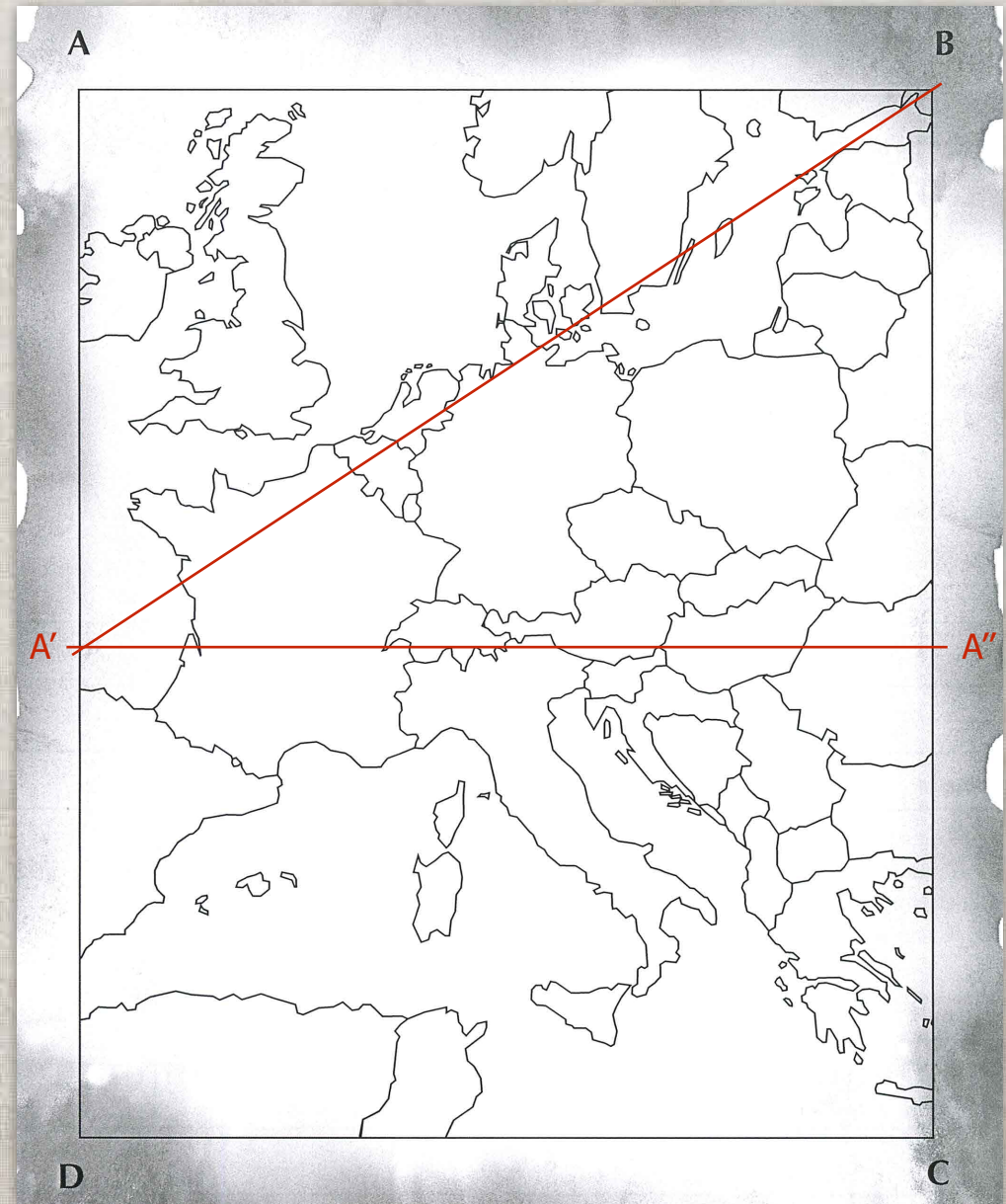
Dans le triangle A'AB, trace la médiane [AE] et prolonge la. Elle doit passer par A''.

Sur [DC], trace le segment [DF] = 2,5 cm.

De F, vers le nord, trace [FG] perpendiculaire à [DC].

Cette droite [FG] coupe la médiane [AE] en J.
C'est là que se trouve le trésor.

Carte vierge



CHASSE AU TRÉSOR N°4

Cliquer sur chaque étape du programme de construction

Sur [AD] vers le sud, trace le segment [AA'] = 10 cm.

Trace A'A'' parallèle à [AB] et [DC].

Trace le segment [A'B].

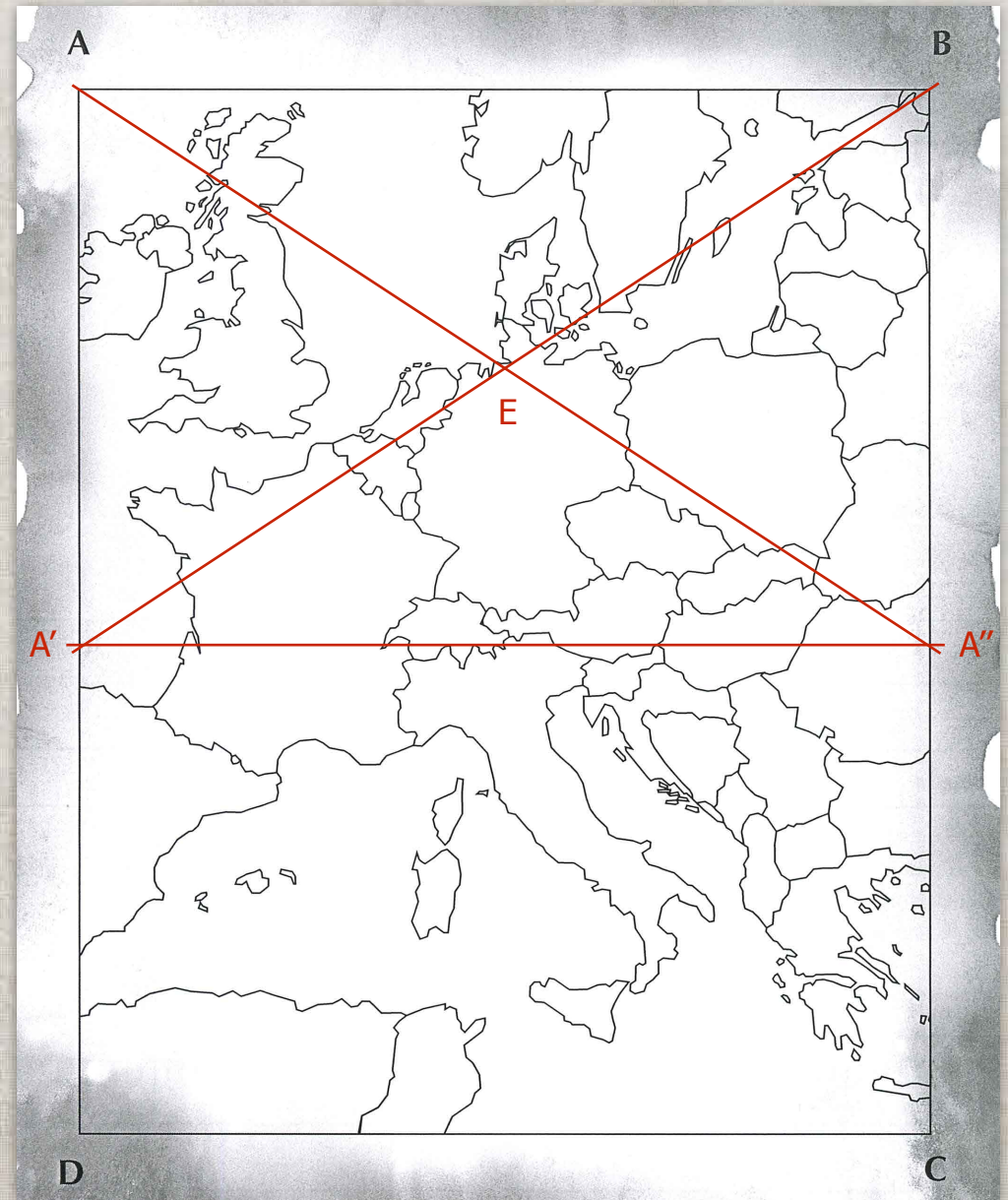
Dans le triangle A'AB, trace la médiane [AE] et prolonge la. Elle doit passer par A''.

Sur [DC], trace le segment [DF] = 2,5 cm.

De F, vers le nord, trace [FG] perpendiculaire à [DC].

Cette droite [FG] coupe la médiane [AE] en J.
C'est là que se trouve le trésor.

Carte vierge



CHASSE AU TRÉSOR N°4

Cliquer sur chaque étape du programme de construction

Sur [AD] vers le sud, trace le segment [AA'] = 10 cm.

Trace A'A'' parallèle à [AB] et [DC].

Trace le segment [A'B].

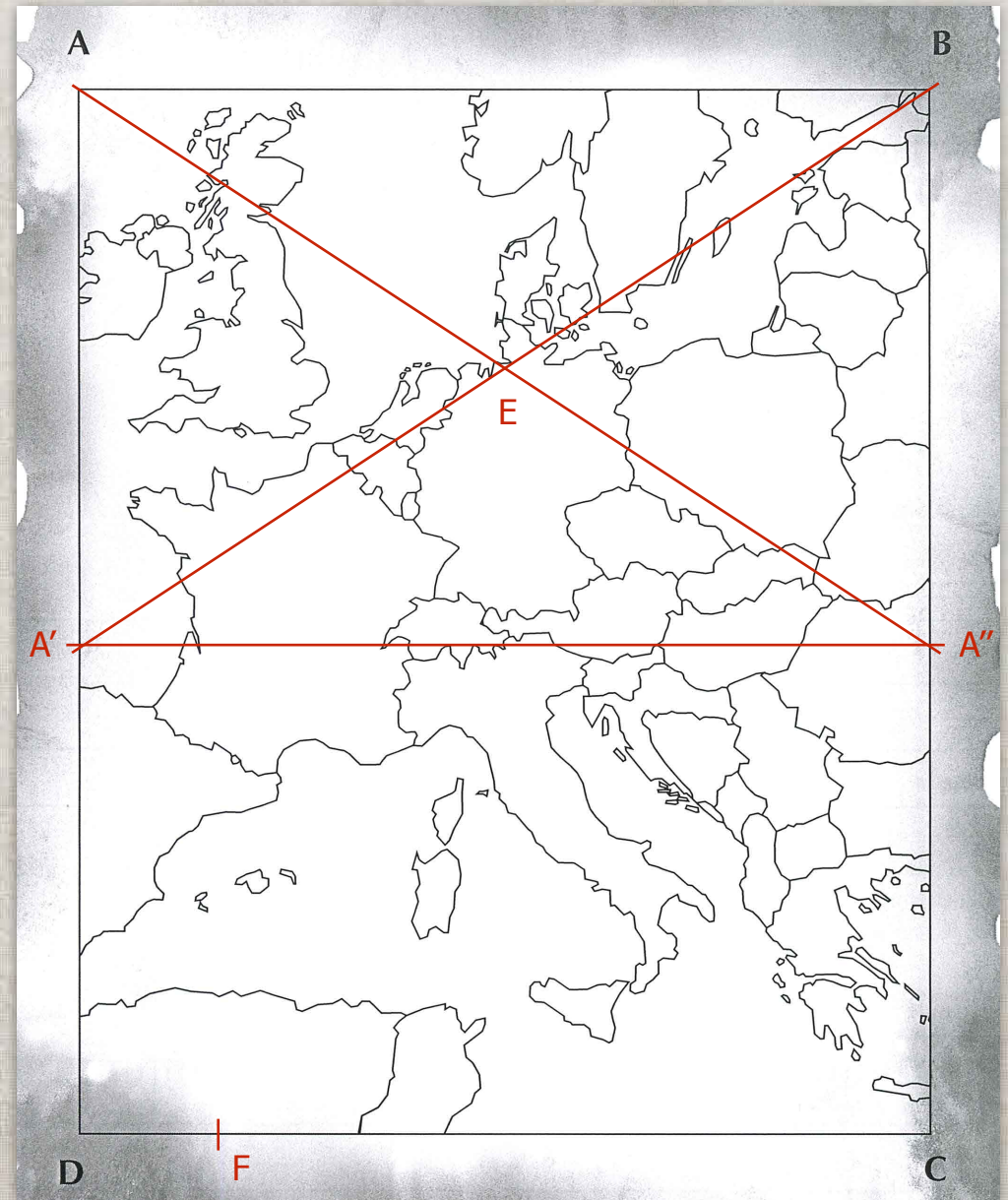
Dans le triangle A'AB, trace la médiane [AE] et prolonge la. Elle doit passer par A''.

Sur [DC], trace le segment [DF] = 2,5 cm.

De F, vers le nord, trace [FG] perpendiculaire à [DC].

Cette droite [FG] coupe la médiane [AE] en J.
C'est là que se trouve le trésor.

Carte vierge



CHASSE AU TRÉSOR N°4

Cliquer sur chaque étape du programme de construction

Sur [AD] vers le sud, trace le segment [AA'] = 10 cm.

Trace A'A'' parallèle à [AB] et [DC].

Trace le segment [A'B].

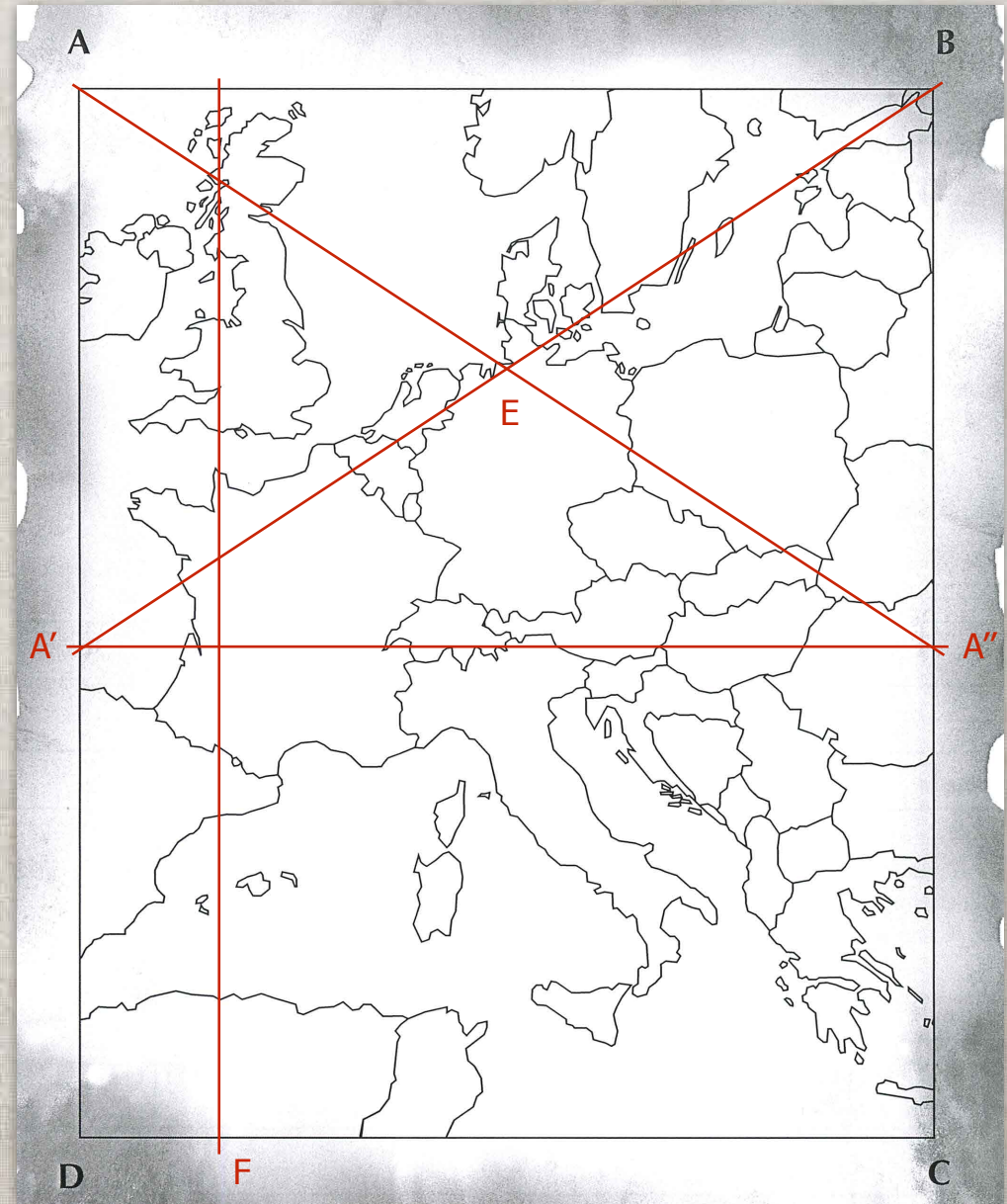
Dans le triangle A'AB, trace la médiane [AE] et prolonge la. Elle doit passer par A''.

Sur [DC], trace le segment [DF] = 2,5 cm.

De F, vers le nord, trace [FG] perpendiculaire à [DC].

Cette droite [FG] coupe la médiane [AE] en J.
C'est là que se trouve le trésor.

Carte vierge



CHASSE AU TRÉSOR N°4

Cliquer sur chaque étape du programme de construction

Sur [AD] vers le sud, trace le segment [AA'] = 10 cm.

Trace A'A'' parallèle à [AB] et [DC].

Trace le segment [A'B].

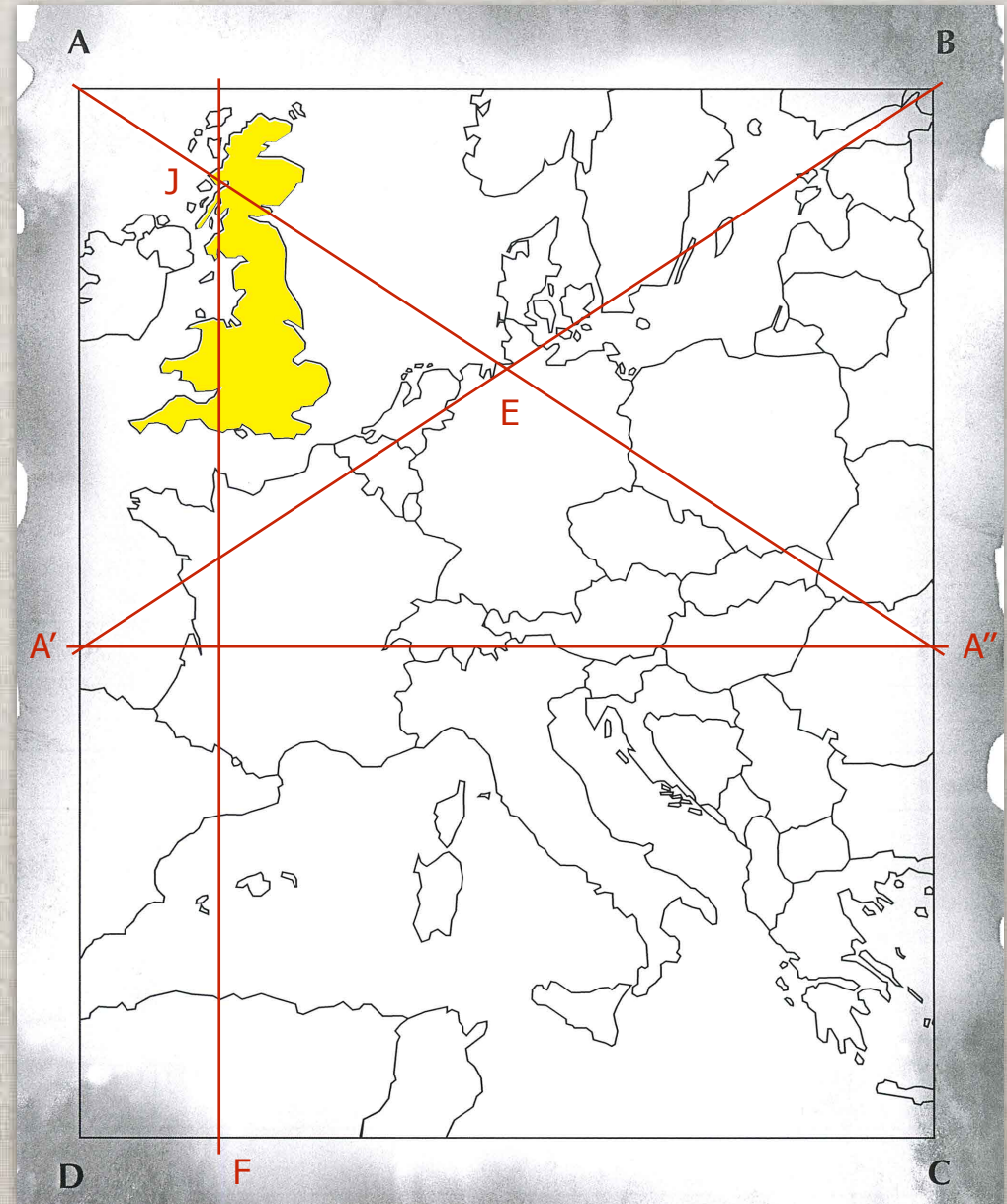
Dans le triangle A'AB, trace la médiane [AE] et prolonge la. Elle doit passer par A''.

Sur [DC], trace le segment [DF] = 2,5 cm.

De F, vers le nord, trace [FG] perpendiculaire à [DC].

Cette droite [FG] coupe la médiane [AE] en J.
C'est là que se trouve le trésor.

Carte vierge



LE TRÉSOR SE TROUVE EN GRANDE-BRETAGNE