

Défi calcul mental n°20




Compétence travaillée : Connaître les tables de 2, 3, 4 et 5.

...../ 20 points

1/ Ecris seulement le résultat.

2/ Problème :

3/ Calcule le plus rapidement possible.

<input type="checkbox"/>		<input type="checkbox"/>		<input type="checkbox"/>	
--------------------------	-----------------------------------------------------------------------------------	--------------------------	-------------------------------------------------------------------------------------	--------------------------	-------------------------------------------------------------------------------------

$3 \times \dots = 30$

$5 \times \dots = 15$

$4 \times \dots = 32$

$5 \times \dots = 40$

$2 \times \dots = 14$

$3 \times \dots = 24$

© Les trouvailles de KarINETTE

Défi calcul mental n°20






Compétence travaillée : Connaître les tables de 2, 3, 4 et 5.

...../ 20 points

1/ Ecris seulement le résultat.

2/ Problème :

3/ Calcule le plus rapidement possible.

<input type="checkbox"/>		<input type="checkbox"/>		<input type="checkbox"/>	
--------------------------	-------------------------------------------------------------------------------------	--------------------------	---------------------------------------------------------------------------------------	--------------------------	---------------------------------------------------------------------------------------

$3 \times \dots = 30$

$5 \times \dots = 15$

$4 \times \dots = 32$

$5 \times \dots = 40$

$2 \times \dots = 14$

$3 \times \dots = 24$

© Les trouvailles de KarINETTE