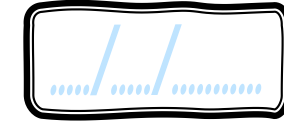


Geométrie


CMI



PRÉNOM :



① Colorie de la bonne couleur.

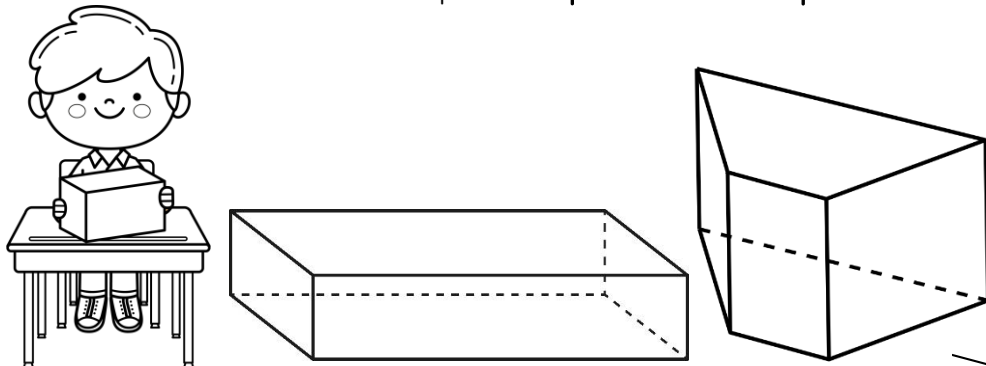


Gare à l'intrus!



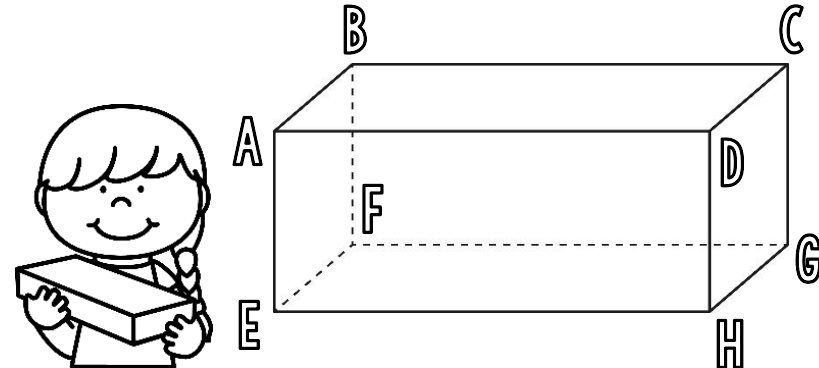
	<u>cube</u>	
	ROUGE	
<u>pavé droit</u>	<u>prisme</u>	<u>pyramide</u>
BLEU	VERT	JAUNE

② Observe ces solides, puis réponds aux questions.



- Marque tous leurs sommets en vert.
- Repasse 4 arêtes en bleu.
- Colorie deux faces opposées en jaune.

③ a) Décalque ce pavé droit.



- Nomme 3 arêtes parallèles.
- Nomme 2 arêtes perpendiculaires.
- Quelle est la face opposée à BCGF ?