

1-Écrire un nombre

Écris les nombres dans lesquels tu entends 2

723 - 273 - 372 - 327 - 732

2- Écris le nombre en lettres.

843

3- Écrire un nombre par recombinaison $60 + 200 + 5$

Ecris le nombre

6d 2u 5c c'est ...

4-Compare deux nombres // Range ces trois nombres dans l'ordre croissant/ Décroissant /

Compare

$400+20+3 \dots 200+40+3$

5-Encadrer un nombre à l'unité, à la dizaine, à la centaine

Encadre ce nombre à la dizaine.

Entoure celui qui est le plus proche.

..... < 602 <

6- Continue la suite des nombres (écris les trois nombres suivants en appliquant la règle) / Ajouter, soustraire deux nombres

Continue Calcule

326-316-306-...-...-...

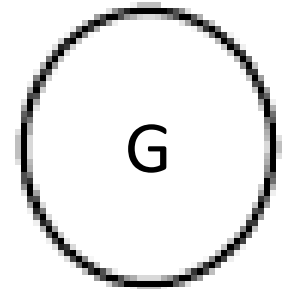

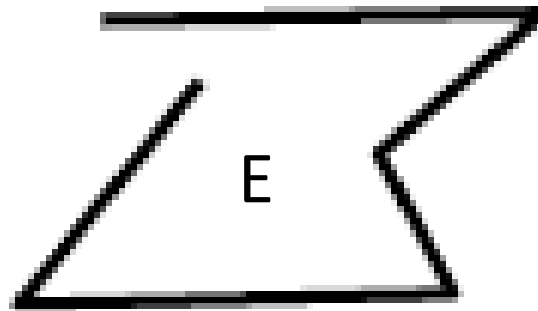

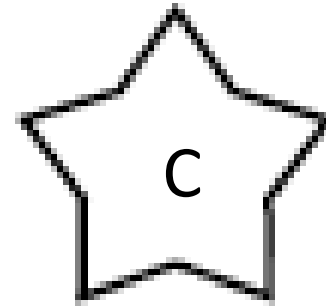
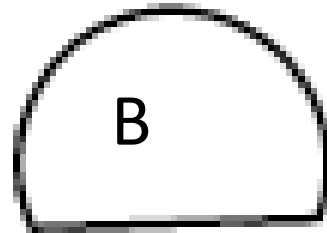

7- Compléter à la dizaine sup , à la centaine sup / Compléter à un nombre ex. $43 + \dots = 65$ ou avec retenue
 $46 + \dots = 65$

Complète

$$46 + \dots = 65$$

8-

Lesquelles de ce figures sont des polygones ?



9- Donner une somme par lecture et calcul des pièces et billets en euros et en centimes d'euros.

Quelle est cette somme ? N'oublie pas l'unité !



10-

- Poser et calculer une addition, une soustraction (rapidement)

Pose et calcule

La somme de 326 et 474

