



1.  **Colorie** de la même couleur le cadre de la pendule à l'étiquette de l'heure correspondante.



9 heures et demie

7 heures

11 heures et demie

1 heure et demie

3 heures et demie

3 heures

2.  **Ecris** l'heure indiquée sur chaque pendule.



\_\_\_\_ : \_\_\_\_  
Je me lève



\_\_\_\_ : \_\_\_\_  
je fais des calculs



\_\_\_\_ : \_\_\_\_  
Je lis



\_\_\_\_ : \_\_\_\_  
je sors de l'école



**Lis** l'heure sur les pendules **remets les dessins dans l'ordre** en les numérotant de 1 à 4




07.30



08.30



06.30



08.00

