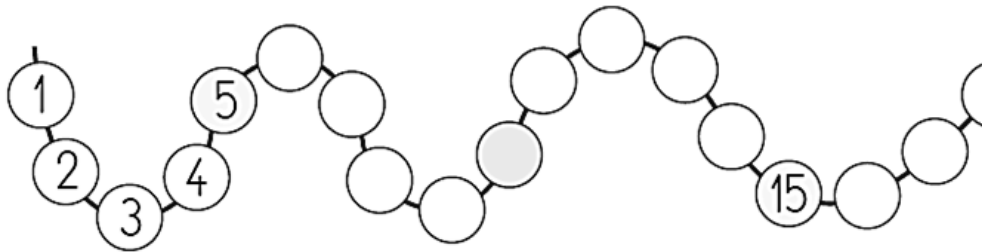
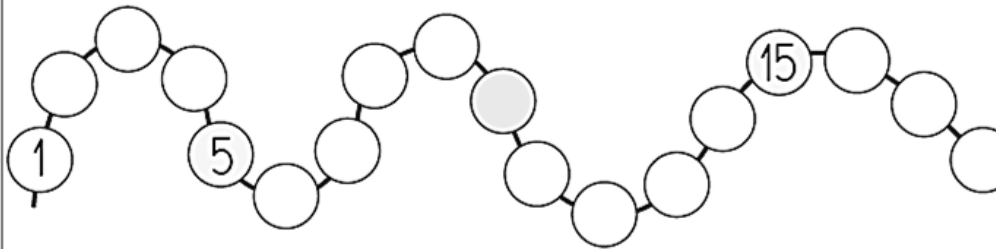



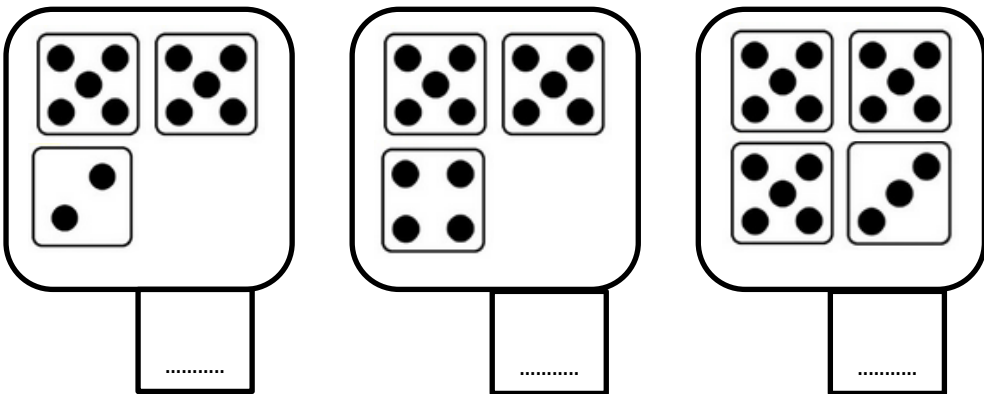
Ecris les nombres qui manquent



Ecris chaque nombre à sa place : 7 11 3 17 9 14



Ecris le nombre de points.



A la fin de chaque jeu, il y a exactement 10 jetons dans la boîte.
Entoure les bonnes réponses.

Jeu 1	3	2	3	1	1	oui	non	
Jeu 2	1	3	2	1	2	oui	non	
Jeu 3	3	3	2	2		oui	non	
Jeu 4	1	3	1	2	1	3	oui	non

Ecris ce que doit choisir le dernier joueur pour obtenir 10.

Jeu 1	1	2	1	1	3	
Jeu 2	3	2	2			
Jeu 3	1	2	1	1	2	1