

Evaluation de Géographie

<p>Note :</p>	<p>Commentaire :</p> <p>.....</p> <p>.....</p>
---------------	--

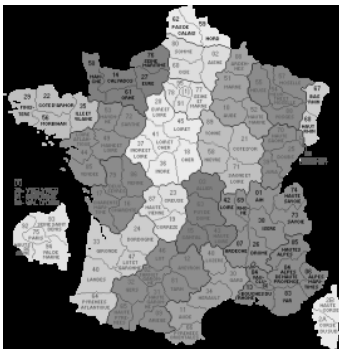
1. Explique le métier du géographe. (/ 4)

.....

.....

.....

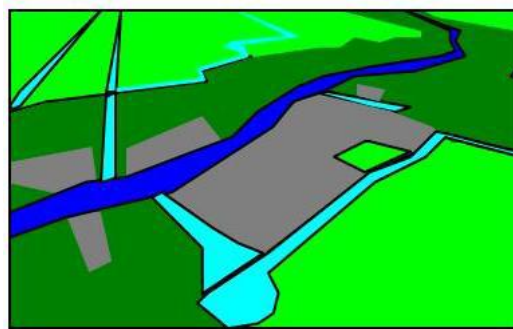
2. Donne le nom de chaque type de document : tableau, photographie, plan carte, schéma. (/5)



Vote démocrate en 2004 dans l'Etat de New York par comtés

Comtés urbains		Comtés ruraux	
Erie	56,4	Allegany	34,1
Monroe	50,6	Wyoming	33,8
Onondaga	54,2	Yates	39,3
Albany	60,7	Delaware	41,2
Broome	50,4	Greene	39,9
New York City		Schoharie	38
Kings	74,9	Hamilton	31,0
Queens	71,7	Essex	45,6
Nassau	52,3	Lewis	39,9
Bronx	82,8		

Réalisation: G. RABALLAND, 2008.



- FLEUVE (MEKONG)
- CANAUX
- DIGUES
- VILLAGES ET JARDINS
- RIZIERES
- FORÊT

4. Explique le vocabulaire suivant (/ 3)

Paysage rural :

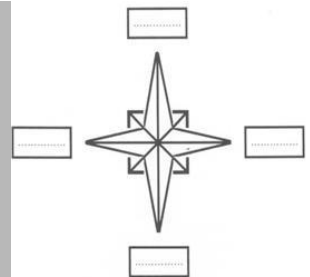
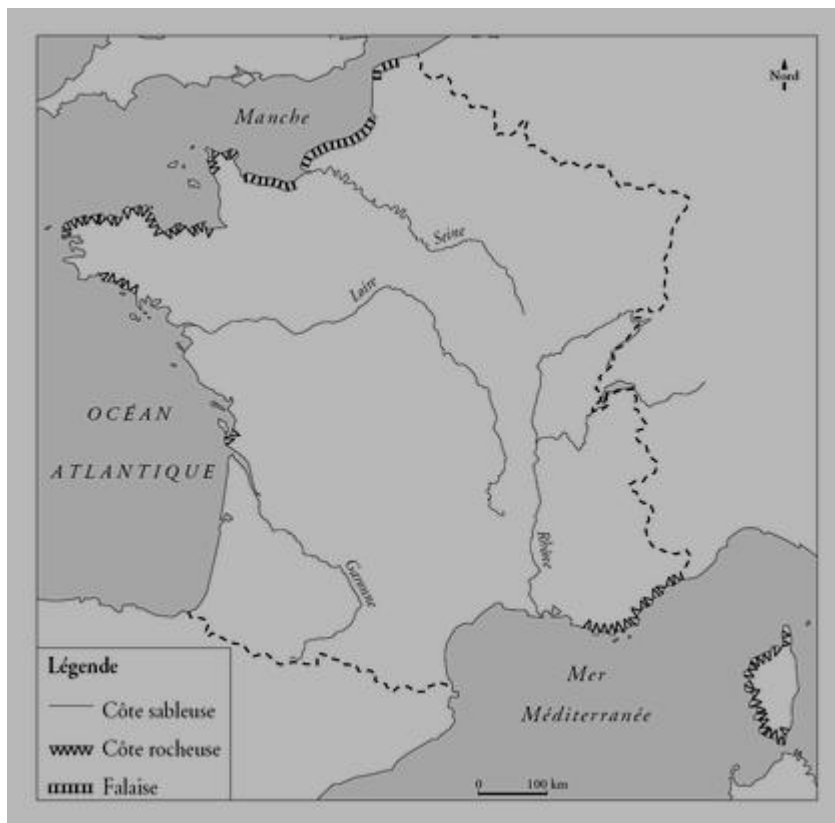
Paysage urbain :

Paysage rurbain :

5. Quels sont les 4 éléments indispensables pour comprendre une carte ? (/ 4)

.....
.....
.....
.....

6. Place ces 4 éléments sur la carte à l'aide de flèches. (/ 4)



Carte de France des littoraux