

## NUMERATION et CALCULS

Fanny va à la boulangerie.  
Elle veut acheter  
1 croissant à 1 €  
1 pain au chocolat à 2 €.

**Combien va-t-elle payer ?**

- 30€
- 3€
- 300€



## NUMERATION et CALCULS

**Choisis la bonne réponse.**



3€

## NUMERATION et CALCULS

Enes a 4 ballons et Jérémie lui en donne 4.

**Enes a**

- 5 ballons
- 8 ballons
- 15 ballons



## NUMERATION et CALCULS

**Choisis la bonne réponse.**



8

## NUMERATION et CALCULS

Une poupée joue à un jeu,  
elle gagne 5 cadeaux puis encore 3.

**Combien a-t-elle de cadeaux en tout ?**

- 4
- 8
- 11



## NUMERATION et CALCULS

**Choisis la bonne réponse.**



8

## NUMERATION et CALCULS

Léa a 58 chewing-gums  
et elle en achète 32.

**Combien a-t-elle  
de chewing-gums en tout ?**

- 70
- 90
- 100



## NUMERATION et CALCULS

*Choisis la bonne réponse.*



90

## NUMERATION et CALCULS

Théo a 60 coquillages  
et il en donne 35 à son amie Léa.

**Combien lui en reste t-il ?**

- 15
- 25
- 35



## NUMERATION et CALCULS

*Choisis la bonne réponse.*



25

## NUMERATION et CALCULS

Lucas a 9 billes et il en perd 4.

**Combien lui en reste t-il ?**

- 7
- 5
- 6



## NUMERATION et CALCULS

*Choisis la bonne réponse.*



5

## NUMERATION et CALCULS

Théo à 35 € dans son porte-monnaie.  
Il veut acheter un vélo qui coûte 50 €

**A-t-il assez d'argent?**



**Combien lui manque-t-il ?**

- 15       20       25

## NUMERATION et CALCULS

**Choisis la bonne réponse.**



15


## NUMERATION et CALCULS

Ervin a 10 €  
il achète une moto à 10€.

**Est-ce qu'il lui reste de l'argent?**

- oui       non

**Combien ? .....€**



## NUMERATION et CALCULS

**Choisis la bonne réponse.**




Non 0€

## NUMERATION et CALCULS

Léa a 5€ et elle veut acheter un pull  
qui coûte 10€

**A-t-elle assez d'argent?**

- oui       non



Il lui  manque  reste de l'argent

**Combien ? .....€**

## NUMERATION et CALCULS

**Choisis la bonne réponse.**



Non 5€

## NUMERATION et CALCULS

Maman achète  
5 bananes, 8 pommes,  
10 fraises et 3 poires.



**Combien de fruits a-t-elle ?**

- 23       26       29

## NUMERATION et CALCULS

**Choisis la bonne réponse.**



26

## NUMERATION et CALCULS

Léa a 18€  
elle achète une poupée qui coûte 14€.

**- A-t-elle assez d'argent?**

oui       non

**- Combien lui reste t-il?**

- 2       4       6



## NUMERATION et CALCULS

**Choisis la bonne réponse.**



Oui - 4€

## NUMERATION et CALCULS

Maman va au magasin de chaussures pour  
acheter des bottes. Elle a 24€ dans son  
porte monnaie mais les bottes coûtent 54€

**- A-t-elle assez d'argent?**

oui       non

**- Combien lui manque t-il?**

- 20 €       30 €       40 €



## NUMERATION et CALCULS

**Choisis la bonne réponse.**



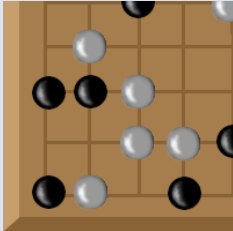
Non - 30 €

## NUMERATION

Mehdy a 65 billes, Sarah a 56 billes et Coralie a 45 billes.

**Qui en a le plus ?**

Mehdy    Coralie    Sarah



## NUMERATION

**Choisis la bonne réponse.**



Mehdy

## NUMERATION

Maman 45€ dans son sac.  
Papa a 54€ dans sa poche.



**Qui a le plus d'argent ?**

Papa    Maman

## NUMERATION

**Choisis la bonne réponse.**



papa

## NUMERATION et CALCULS

Madison a 3 paquets de 10 cartes.  
Elle les distribue à ses amis.

**Combien doit-elle donner de cartes à ses amis ?**

30    20    60



## NUMERATION et CALCULS

**Choisis la bonne réponse.**



30

## NUMERATION et CALCULS

Le coiffeur peut prendre 10 personnes dans son salon.

Mais 10 personnes attendent dehors.

**Combien de personnes seront allés chez le coiffeur ?**

- 30
- 20
- 10



## NUMERATION et CALCULS

*Choisis la bonne réponse.*



20