

Nombres et quantités: de 0 à 499




1 Ecris les nombres manquants:

386	389
-----	-------	-------	-----

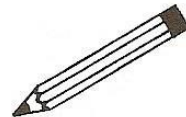


.....	426
-------	-------	-------	-----



.....
392	395

417
-----	-------	-------	-------



355
.....	365

.....
.....
.....
.....
.....
479
.....
.....
.....	189

2 Colorie les nombres identiques :

trois - cent - quatre - vingt - treize

426

$300 + 90 + 3$

$400 + 20 + 6$

$400 + 9$

409

$100 + 40 + 9$

quatre - cent - neuf

cent - quarante - neuf

393

149

quatre - cent - vingt - six

3 Complète :

382	$300 + 80 + 2$
276
487
349

.....	$100 + 50 + 6$
.....	$400 + 90 + 2$
.....	$300 + 40 + 8$
.....	$400 + 80 + 1$

Prénom : _____

Date: _____

Nombres et quantités : de 0 à 499



1 Complète le tableau:

nombre avant	nombre	nombre après
	246	
309		
		461
397		

2 Complète avec $<$, $>$ ou $=$:

3  15

365

.....

395

330

.....

303

219

.....

291

390

.....

309

467

.....

476

198

.....

189

441

.....

374

308

.....

288

3 Relie les nombres à leur place sur la droite graduée

357

362

374

379

392

350


360

370

380

390

4 Complète la bande numérique:



Nombres et quantités : de 0 à 499



1 Relie les nombres identiques :

305

quatre - cent - soixante

424

trois - cent - cinquante

350

quatre - cent - vingt - quatre

203

quatre - cent - cinquante - cinq

455

deux - cent - trois


270

deux - cent - soixante - dix

460

trois - cent - cinq

2 Compte en groupant par 10, puis par 100:



Prénom : _____

Date: _____

Nombres et quantités : de 0 à 499



1 Encadre le nombre avec les nombres de ton choix:

..... 492

..... 238

..... 67

..... 375

..... 482

..... 476

..... 194

..... 362

..... 298

2 Ecris les nombres dans l'ordre croissant, du plus petit au plus grand:

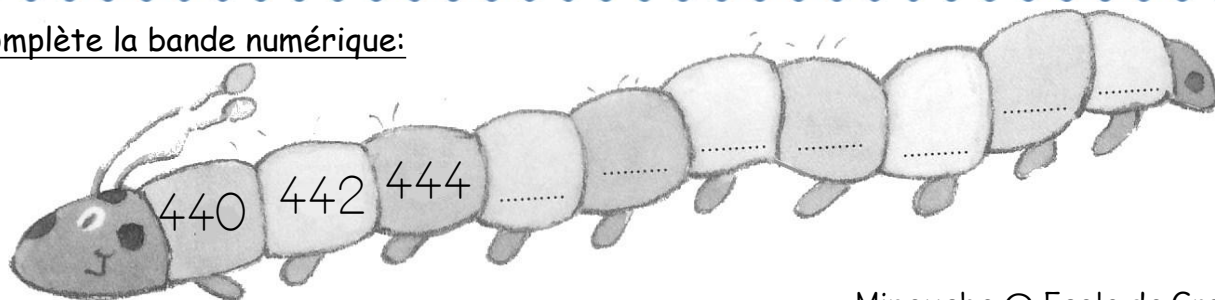
481 - 94 - 371 - 148 - 46 - 367 - 184

--	--	--	--	--	--	--

3 Ecris les nombres en lettres:

206	
324	
139	
276	
498	
407	

4 Complète la bande numérique:



Prénom : _____

Date: _____

Nombres et quantités : de 0 à 499



1 Encadre le nombre entre deux dizaines qui se suivent:

..... 262

..... 378

..... 108

..... 465

..... 347

..... 386

..... 304

..... 412

..... 371

2 Colorie en bleu les unités, en rouge les dizaines et en vert les centaines

392

178

59

105

439

79

275

386

207

399

107



499

3 Ecris les nombres dans l'ordre croissant, du plus petit au plus grand:

305 - 295 - 190 - 98 - 79 - 459 - 450

4 Dessine :

123



272

380

436

Prénom : _____

Date: _____

Nombres et quantités : de 0 à 499

3  15

1 Complète avec $<$, $>$ ou $=$:

403 $400 + 30$

269 $200 + 70$

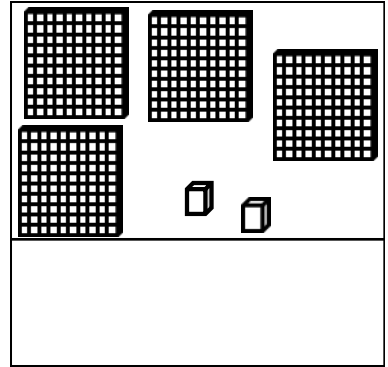
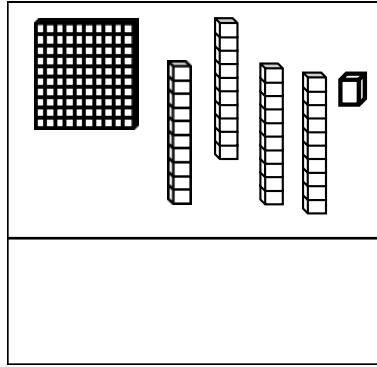
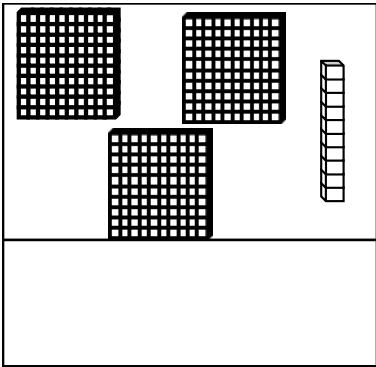
458 $400 + 50 + 8$

320 $300 + 100 + 1$

456 $300 + 60 + 5$

275 $100 + 100 + 100$


2 Compte et complète :



3 Ecris les nombres du plus grand au plus petit:

305 - 86 - 385 - 356 - 396 - 153 - 369

4 Complète :



Prénom : _____

Date: _____

Nombres et quantités : de 0 à 499

3  15

1 Complète avec <, > ou =:

352 quatre - cent - deux

287 cent - dix - sept

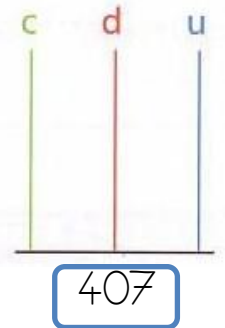
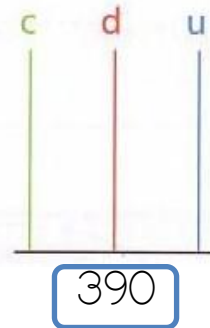
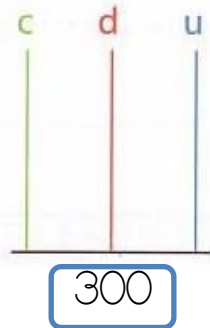
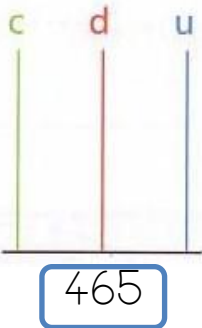
325 trois - cent - treize

403 quatre - cent - trois

436 trois - cent - quarante

164 cent - soixante


2 Complète les abaques :



3 Complète le tableau :

127	$100 + 20 + 7$	$1c + 2d + 7u$
478		
383		
275		
246		

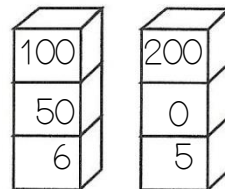
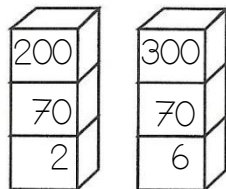
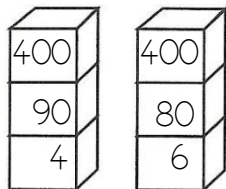
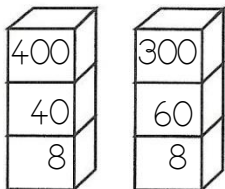
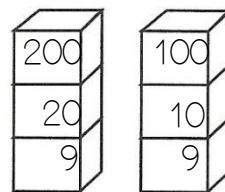
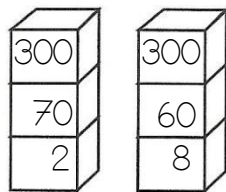
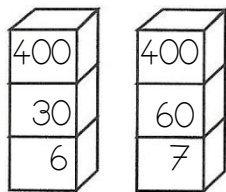
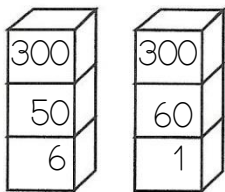
4 Complète :




Nombres et quantités : de 0 à 499



1 Colorie la pile qui représente le plus petit nombre:



2 Entoure les pièces et billets qu'il faut choisir pour avoir 314€ :



Pour avoir 314€, il faut :

.....	billets de 100 €
.....	billets de 10 €
.....	pièces de 1 €

3 Relie les nombres à leur place sur la droite graduée :

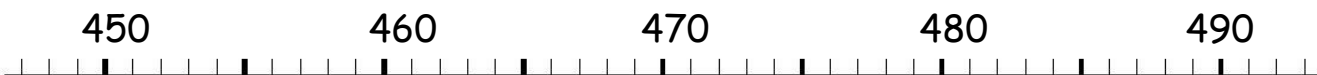
449

472

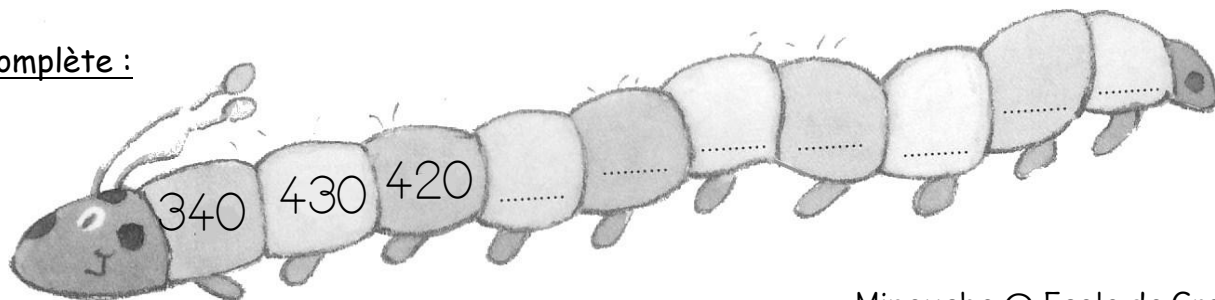
481

479

485



4 Complète :



Prénom : _____

Date: _____


Nombres et quantités : de 0 à 499



1 Complète les compteurs :

245	367	471	205	488	376
246	368	472	206	489	377

2 Entoure les pièces et billets qu'il faut choisir pour avoir 438€ :




Pour avoir 438€, il faut :

.....	billets de 100 €
.....	billets de 10 €
.....	pièces de 1 €

3 Relie les nombres à leur place sur la droite graduée :

(359)	(365)	(374)	(399)	(387)
360	370	380	390	300

4 Complète :



Prénom : _____

Date: _____

Nombres et quantités : de 0 à 499



1 Ecris en chiffres :

deux - cent - cinquante - sept :


trois - cent - quatorze :

quatre - cent - trois :

quatre - cent - soixante - et - onze :

trois - cent - quatre - vingt - huit :

2 Entoure les pièces et billets qu'il faut choisir pour avoir 405€ :



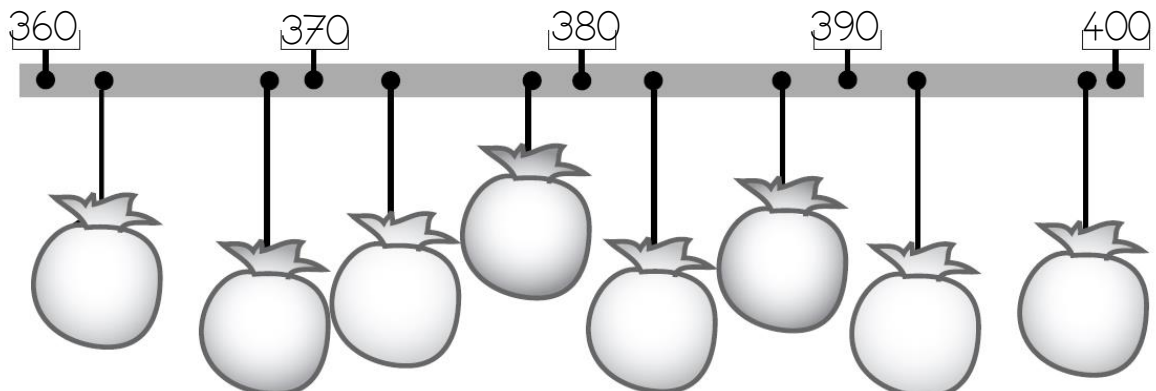
Pour avoir 405€, il faut :

.....	billets de 100 €
.....	billets de 10 €
.....	pièces de 1 €

3 Ecris les nombres à leur place dans les sacs:

398 - 377 - 386 - 374 - 368 - 363 - 383 - 393

Minouche @ Ecole de Crevette



Minouche @ Ecole de Crevette