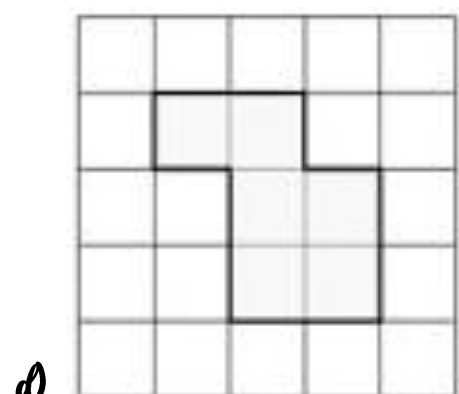

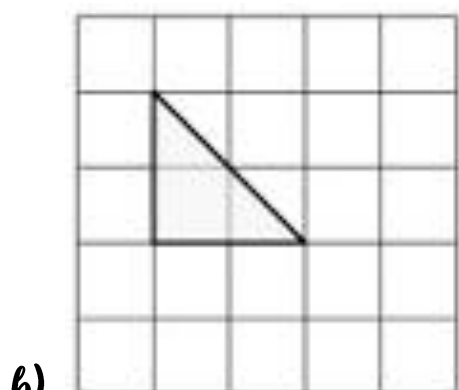
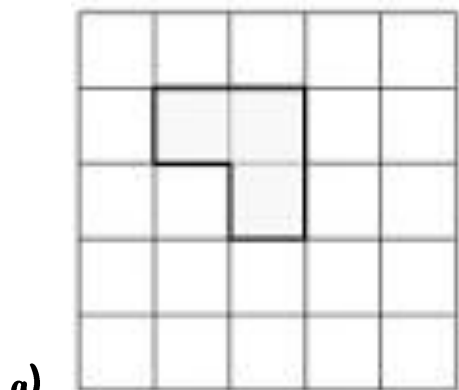


**Exercice 1 : Reproduis sur ton cahier du jour ces figures. Utilise 1 carreau de cahier comme unité d'aire (1 carreau = 1 carré).**



**Exercice 2 : Reproduis sur ton cahier du jour ces figures. Utilise 1 carreau de cahier comme unité d'aire (1 carreau = 1 carré).**

