


➔ Manipulation
Guide p. 104

CALCUL MENTAL

Calculer des durées. Faire écrire la réponse en minutes.
Ex. : Quelle durée sépare 9 h 30 de 11 h ?



1 Entoure chaque groupe de points de la couleur de l'opération qui correspond.
Complète l'autre opération que l'on peut écrire.


$4 + 4 + 4 + 4$

$3 + 3 + 3$

$6 + 6 + \dots$

$5 + \dots$

$2 + \dots$



$4 \times \dots$

$3 \times \dots$

4×6

5×2

3×2

2 Complète toutes les opérations possibles.



C'est :


$6 + \dots$

$2 + \dots + \dots + \dots + \dots + \dots$

$6 \times \dots$

$2 \times \dots$

3 Le cuisinier a acheté des boîtes de 6 œufs. Complète et trouve le nombre total d'œufs.



$\dots + \dots + \dots + \dots + \dots + \dots$

Ou $\dots \times \dots$

En tout, il y a \dots œufs.

4 Lali collectionne les images d'animaux. Écris une multiplication pour calculer le nombre d'images :



$\dots \times \dots = \dots$

5 Combien de temps dure le spectacle de Valentino ?



Heure de début



Heure de fin

Le spectacle de Valentino dure

\dots heure et \dots minutes.