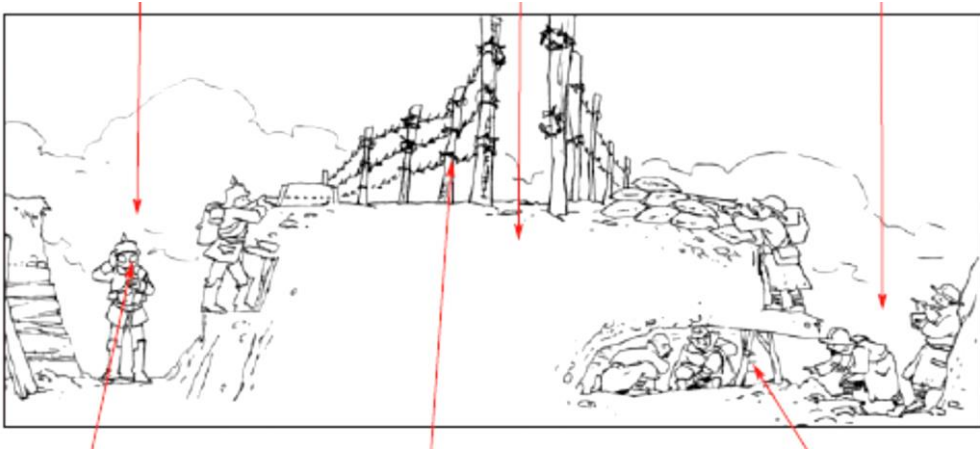
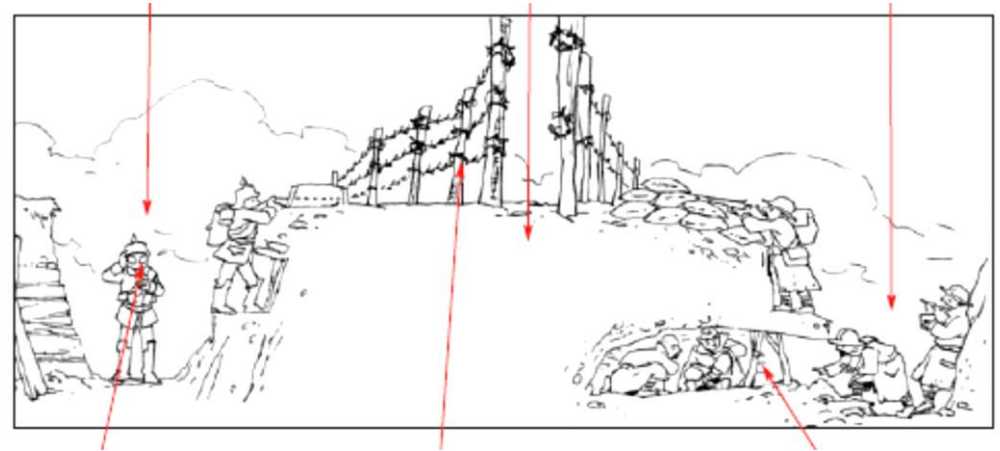


Les tranchées



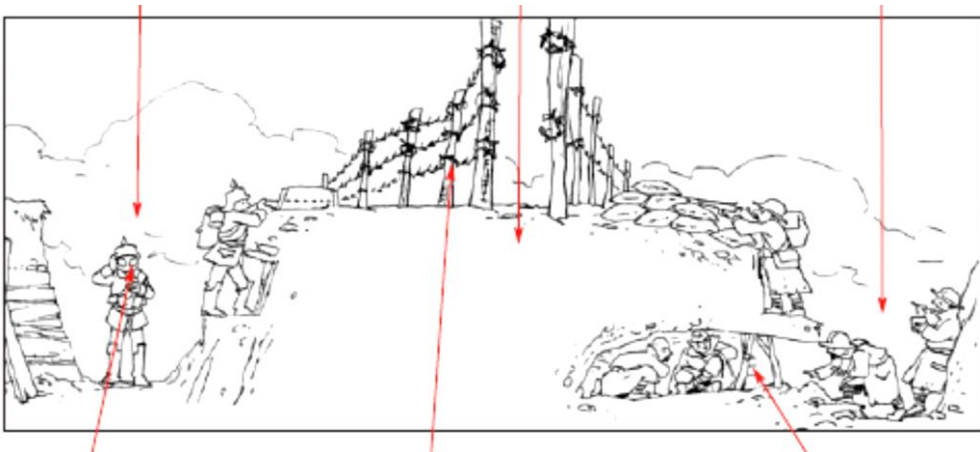
Complète le schéma avec les numéros correspondant aux mots suivants : 1. masque à gaz – 2. tranchée des Allemands – 3. remblais de protection – 4. barbelés pour empêcher les assauts – 5. tranchée des Français – 6. abris contre les bombardements

Les tranchées



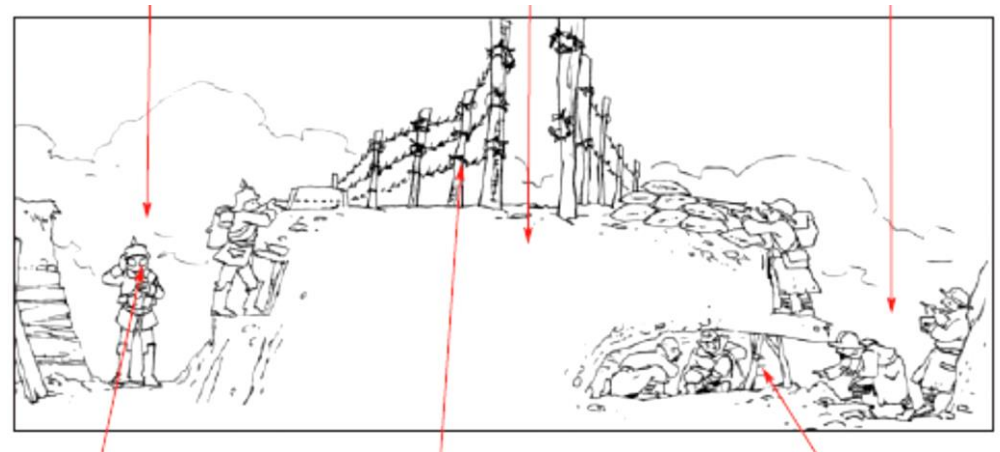
Complète le schéma avec les numéros correspondant aux mots suivants : 1. masque à gaz – 2. tranchée des Allemands – 3. remblais de protection – 4. barbelés pour empêcher les assauts – 5. tranchée des Français – 6. abris contre les bombardements

Les tranchées



Complète le schéma avec les numéros correspondant aux mots suivants : 1. masque à gaz – 2. tranchée des Allemands – 3. remblais de protection – 4. barbelés pour empêcher les assauts – 5. tranchée des Français – 6. abris contre les bombardements

Les tranchées



Complète le schéma avec les numéros correspondant aux mots suivants : 1. masque à gaz – 2. tranchée des Allemands – 3. remblais de protection – 4. barbelés pour empêcher les assauts – 5. tranchée des Français – 6. abris contre les bombardements