

Complète les deux calendriers du mois en cours.

Dans les cases jaunes, écris 1, 2, 3... Quel jour est le 1^{er} ?



Mois de						
lundi	mardi	mercredi	jeudi	vendredi	samedi	dimanche

Le 1^{er} jour du mois est un

Le dernier jour est un

Dans ce mois, il y a jours.

Dans une semaine, il y a jours.

Dans la colonne bleue, écris L, MA, ME, J, V, S, D.



Mois de	
1	
2	
3	
4	
5	
6	Tournoi de foot
7	
8	
9	
10	
11	Anniversaire de Théo
12	
13	
14	
15	
16	Concert
17	
18	
19	
20	
21	
22	
23	
24	
25	
26	
27	
28	
....	
....	
....	

Colorie la même semaine sur les deux calendriers.

Je m'entraîne

Quel jour de la semaine a lieu le tournoi de foot ?

.....

Je suis née le 25 de ce mois !



Colorie en jaune la case de l'anniversaire de Léa.

Le lendemain, Théo lui apporte un cadeau.

Colorie en vert cette case.

Mathix est né exactement un mois après Léa.

Son anniversaire est le

Piste de recherche

Numérote dans l'ordre les jours de la semaine.

mardi mercredi
 jeudi
 lundi 1 samedi
 dimanche vendredi

Colorie en **jaune** les étiquettes des jours d'école.

Complète les phrases.

Aujourd'hui, c'est

Demain, ce sera

Hier, c'était

Dans la semaine, il y a jours.

Numérote dans l'ordre les mois de l'année.

janvier 1 décembre
 février
 juin mars
 mai août
 septembre avril
 octobre juillet
 novembre

Complète les phrases.

Nous sommes au mois de

Le mois prochain, ce sera le mois de

Dans l'année, il y a mois.

1 Complète.

Aujourd'hui, c'est mercredi.
 Hier, c'était
 Demain, ce sera

2 Écris le nom des deux mois de vacances d'été.

Écris le mois de Noël.

3 Écris la date d'aujourd'hui.

Colorie de la même couleur l'étiquette et les pièces du puzzle qui portent le même nombre.

<input type="checkbox"/>	37-3	36+9	24+10	17+4	40+5	14-3
<input type="checkbox"/>	49-4	23-2	55-10	21-10	25+9	31-10
<input type="checkbox"/>	28+6	30+4	11+10	35+10	20+1	44-10
<input type="checkbox"/>						

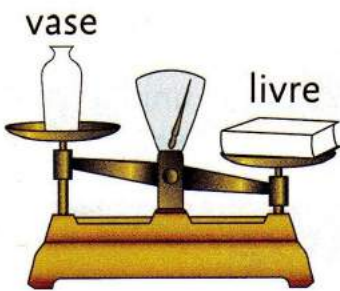
1 Observe et complète les phrases.



..... est plus lourd que

..... est plus léger que

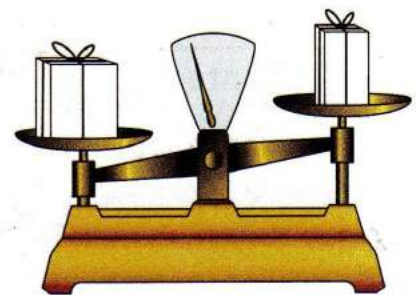
2 Quel est l'objet le plus lourd ?




Le plateau descend quand l'objet est plus lourd.

C'est le

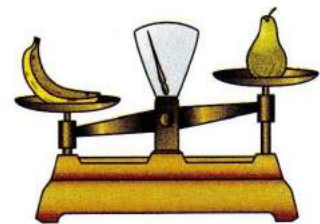
3 Colorie le paquet le plus lourd.



4 Coche sous chaque balance le fruit le plus léger.




pomme poire



banane poire

5 Complète avec le mot qui convient : plus - aussi - moins.

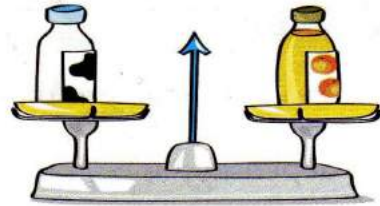


Le pot de colle est lourd que les 3 billes.

1 Observe les dessins et **complète** les phrases.



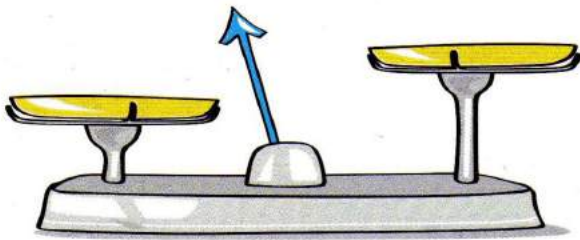
- Le ballon de foot est que le ballon de rugby.
- Le ballon de rugby est que le ballon de foot.



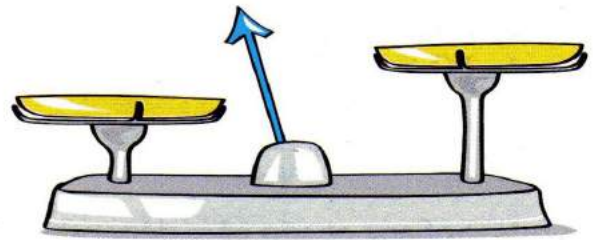
- La bouteille de lait est que la bouteille de jus d'oranges.

2 Dessine les boules en suivant les consignes.

- La boule **bleue** est **plus légère** que la boule **verte**.



- La boule **rouge** est **plus lourde** que la boule **verte**.




3 Observe les balances et **complète** les phrases.



- Le crayon est que le stylo.
- Le pinceau est que le stylo.
- Le feutre est que le pinceau.
- Les ciseaux sont que le feutre.

4 Le dompteur du Cirque Matix veut faire monter son éléphant **le plus léger** sur un tonneau. Il pèse donc ses éléphants.

Pesée 1



Pesée 2



Colorie ce gilet de la couleur de l'éléphant qui montera sur le tonneau :

