


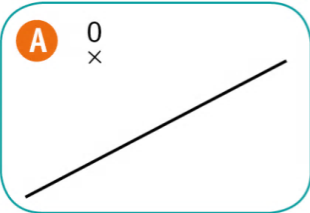
CE1

1 Trace :

- une droite verte ;
- un segment [AB] qui coupe la droite ;
- un point C au-dessus du segment ;
- un point D au-dessous du segment.

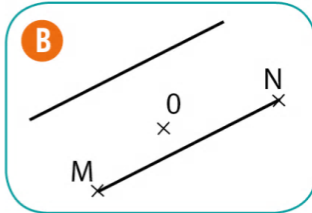


2 Redonne à chaque enfant sa fiche de travail.



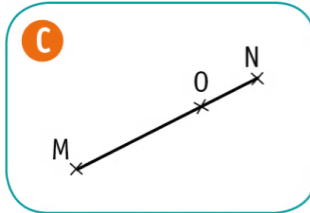
Trace un segment [MN] et place un point O sur ce segment.

Romain



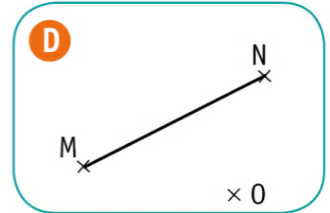
Trace un segment [MN] et place un point O au-dessous de ce segment.

Antoine



Trace une droite et un segment [MN] et place un point O entre la droite et le segment.

Maud

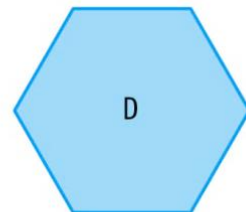
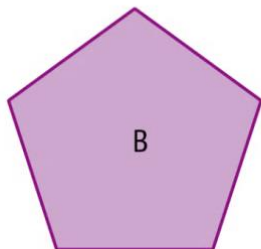



Trace une droite et place un point O au-dessous de cette droite.

Mila

CE1

3 Retrouve la figure de chaque élève.



Ma figure
a 10 côtés.



Ma figure
a 6 angles.



Ma figure a
5 sommets.

Tom

Lisa

Zoé

4 Suis les consignes pour compléter le dessin.

- Repasse en bleu la droite qui passe par les points A et B.
- Nomme E, F et G les 3 sommets de la figure H.
- Trace le segment qui relie les points B et D.
- Repasse d'une couleur différente chaque côté de la figure I.
- Place un point K sur un des côtés de la figure J.

