

Prénom :

Date :

Évaluation mathématiques – Période 2

CM1

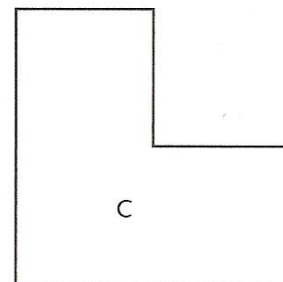
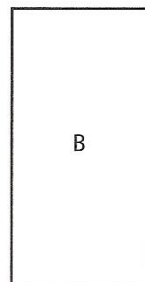
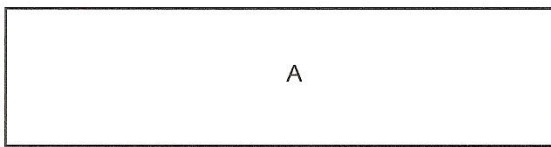
Signature des parents :

Compétences :

Exercices	Calcul	Appréciations
1	Comparer des aires de surfaces par superposition ou découpage et recollement.	
2	Chercher les surfaces qui ont même aire qu'une surface donnée sur un quadrillage et avec une surface-unité.	
3	Réaliser des conversions simples de contenances.	
4	Résoudre un problème avec des contenances en mettant en œuvre des conversions simples	

Exercice 1 :

Range les surfaces de celle qui a la plus petite aire à celle qui a la plus grande aire. Explique ton raisonnement en faisant des schémas.

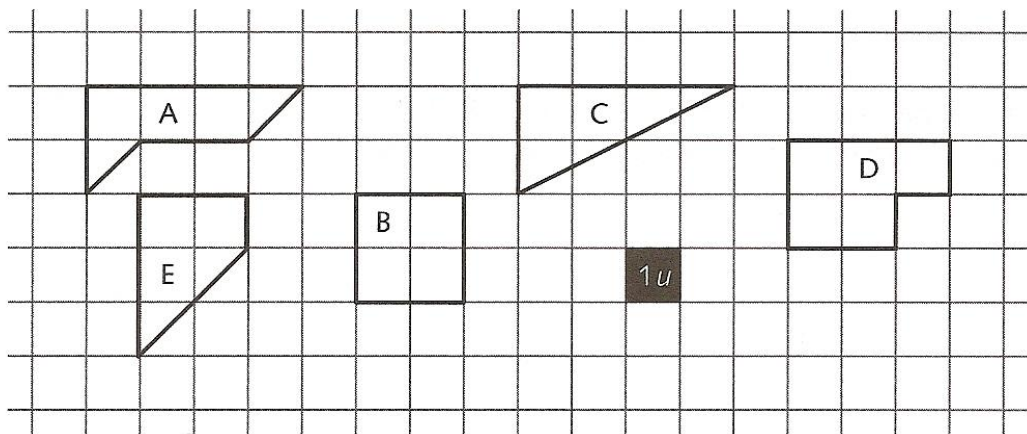


..... < <

.....
.....

Exercice 2 :

Quelles surfaces ont la même aire que la surface A ? Colorie-les. Explique pourquoi.



.....
.....

