

1 Passage à la dizaine

A) Complète :

$39 + 1 = \underline{\quad}$

$60 - 1 = \underline{\quad}$

$49 + 1 = \underline{\quad}$

$50 - 1 = \underline{\quad}$

$19 + 1 = \underline{\quad}$

$20 - 1 = \underline{\quad}$

$29 + 1 = \underline{\quad}$

$39 - 1 = \underline{\quad}$





2 Les nombres jusqu'à 59 : ordre et comparaison

A) Range les nombres dans l'ordre croissant (du plus petit au plus grand) :

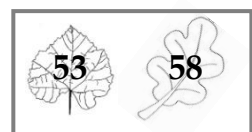

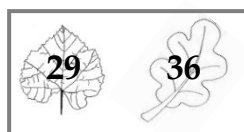
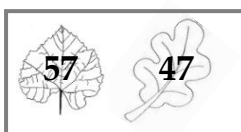
58 - 27 - 54 - 39 - 12 - 9 - 49



B) Entoure le plus grand nombre de chaque série :

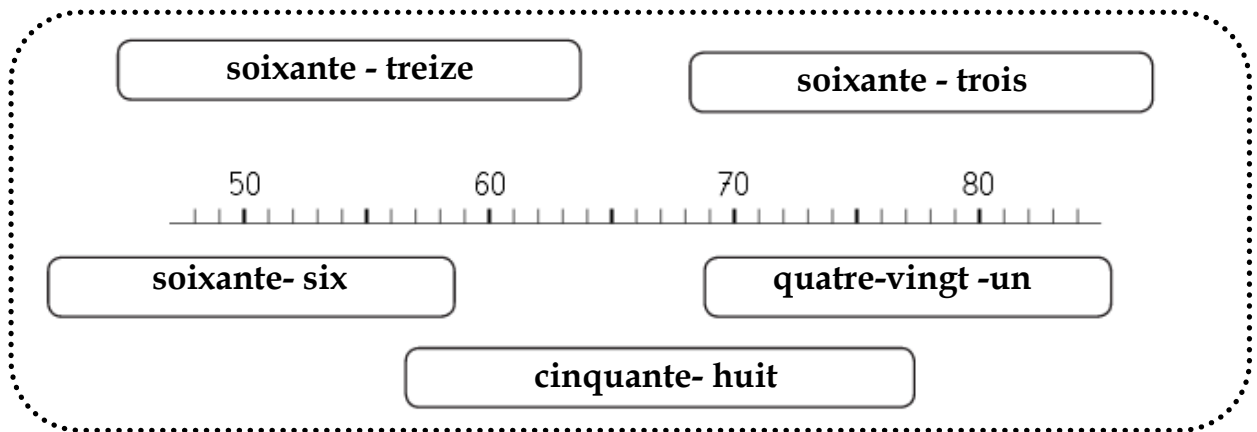
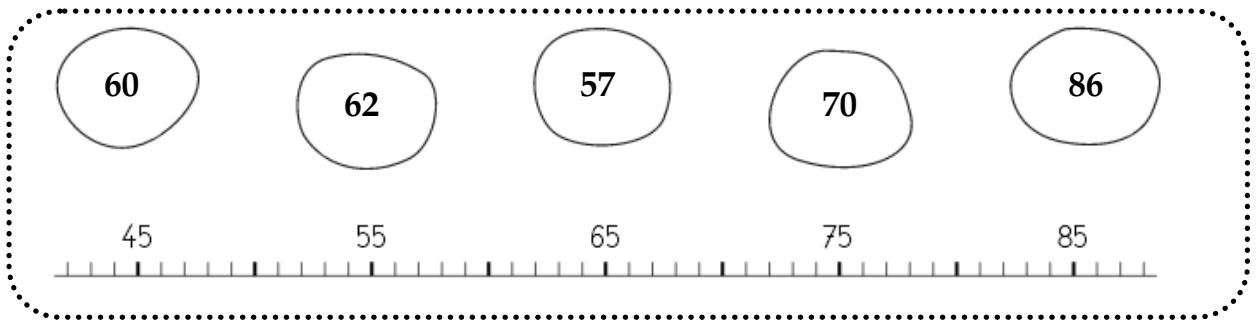


C) Entoure le plus petit nombre de chaque série :



3 Les nombres jusqu'à 99

A) Relie chaque nombre à son repère :



B) Relie les étiquettes pour obtenir le nombre comme dans l'exemple

Example: 78. Labels: soixante, dix, huit, sept. Arrows connect 'soixante' to 'dix' and 'soixante' to 'huit'.

75. Labels: six, soixante, quinze, cinq.

95. Labels: neuf, quatre, vingt, cinq, quinze.

73. Labels: soixante, sept, treize, trois.

88. Labels: neuf, quatre, vingt, sept, huit.

65. Labels: six, soixante, quinze, cinq.

C) Ecris en lettres

74

64

92

82