

Monsieur Doug a 351 euros. Il veut acheter une télévision à 129 euros et un ordinateur à 267 euros.

Peut-il acheter tout cela ?



61



Monsieur Doug a 351 euros. Il veut acheter une télévision à 129 euros et un ordinateur à 267 euros.

Peut-il acheter tout cela ?



61



Monsieur Doug a 351 euros. Il veut acheter une télévision à 129 euros et un ordinateur à 267 euros.

Peut-il acheter tout cela ?



61



62

Dans une salle de spectacle, 345 personnes sont déjà installées. 78 personnes entrent à leur tour.

Combien y a-t-il de personnes dans la salle ?



---

62

Dans une salle de spectacle, 345 personnes sont déjà installées. 78 personnes entrent à leur tour.

Combien y a-t-il de personnes dans la salle ?



---

62

Dans une salle de spectacle, 345 personnes sont déjà installées. 78 personnes entrent à leur tour.

Combien y a-t-il de personnes dans la salle ?



---

Un fleuriste vend 4 bouquets de 7 fleurs.

Combien **vend-il** de fleurs ?




63



Un fleuriste vend 4 bouquets de 7 fleurs.

Combien **vend-il** de fleurs ?




63



Un fleuriste vend 4 bouquets de 7 fleurs.

Combien **vend-il** de fleurs ?





63





64

Combien Léa a-t-elle de billes de plus que Noé ?




64

Combien Léa a-t-elle de billes de plus que Noé ?



64

Combien Léa a-t-elle de billes de plus que Noé ?



Lisa et Alex ont un sac de 50 billes. Alex prend 13 billes et Lisa en prend 17.

Combien de billes reste-t-il dans le sac ?

--	--



65



Lisa et Alex ont un sac de 50 billes. Alex prend 13 billes et Lisa en prend 17.

Combien de billes reste-t-il dans le sac ?

--	--



65



Lisa et Alex ont un sac de 50 billes. Alex prend 13 billes et Lisa en prend 17.

Combien de billes reste-t-il dans le sac ?

--	--



65



66


Julien range ses 24 petites voitures dans des boîtes.

Il met 6 voitures par boîte.

Combien **lui faut-il** de boîtes pour ranger toutes ses voitures ?



---



66


Julien range ses 24 petites voitures dans des boîtes.

Il met 6 voitures par boîte.

Combien **lui faut-il** de boîtes pour ranger toutes ses voitures ?



---



66


Julien range ses 24 petites voitures dans des boîtes.

Il met 6 voitures par boîte.

Combien **lui faut-il** de boîtes pour ranger toutes ses voitures ?



---



Pour la fête de l'école, la directrice achète 4 paquets de 6 bouteilles de jus d'orange et 5 paquets de 3 bouteilles de jus de pomme.

Combien de bouteilles a-t-elle achetées ?

--	--



67



Pour la fête de l'école, la directrice achète 4 paquets de 6 bouteilles de jus d'orange et 5 paquets de 3 bouteilles de jus de pomme.

Combien de bouteilles a-t-elle achetées ?

--	--



67



Pour la fête de l'école, la directrice achète 4 paquets de 6 bouteilles de jus d'orange et 5 paquets de 3 bouteilles de jus de pomme.

Combien de bouteilles a-t-elle achetées ?

--	--



67



68

Lisa a 114 euros dans son porte-monnaie.

Elle achète 2 raquettes de ping-pong à 23 euros chacune.

Combien **lui reste-t-il** d'argent après cet achat ?



68

Lisa a 114 euros dans son porte-monnaie.

Elle achète 2 raquettes de ping-pong à 23 euros chacune.

Combien **lui reste-t-il** d'argent après cet achat ?



68

Lisa a 114 euros dans son porte-monnaie.

Elle achète 2 raquettes de ping-pong à 23 euros chacune.

Combien **lui reste-t-il** d'argent après cet achat ?






Il y a une course de vélo près de Lyon. Il y a 245 personnes au départ. 128 de ces personnes sont des femmes.

69


Combien y a-t-il d'hommes ?



Il y a une course de vélo près de Lyon. Il y a 245 personnes au départ. 128 de ces personnes sont des femmes.

69


Combien y a-t-il d'hommes ?



Il y a une course de vélo près de Lyon. Il y a 245 personnes au départ. 128 de ces personnes sont des femmes.

69

Combien y a-t-il d'hommes ?



70

Lisa achète 5 pack\$ de yaourt au chocolat.

Dans un pack, il y a 6 yaourts.

Combien de yaourts a-t-elle achetés ?



70

Lisa achète 5 pack\$ de yaourt au chocolat.

Dans un pack, il y a 6 yaourts.

Combien de yaourts a-t-elle achetés ?



70

Lisa achète 5 pack\$ de yaourt au chocolat.

Dans un pack, il y a 6 yaourts.

Combien de yaourts a-t-elle achetés ?



La maîtresse a retrouvé une photo de famille prise il y a 5 ans\$.

Calcule l'âge des personnes sur cette photo. Complète le tableau.

	Papa	Maman	Inès	François	Mamie
Age actuel	36 ans	34 ans	8 ans	7 ans	67 ans
Age sur la photo					

71



La maîtresse a retrouvé une photo de famille prise il y a 5 ans\$.

Calcule l'âge des personnes sur cette photo. Complète le tableau.

	Papa	Maman	Inès	François	Mamie
Age actuel	36 ans	34 ans	8 ans	7 ans	67 ans
Age sur la photo					

71



La maîtresse a retrouvé une photo de famille prise il y a 5 ans\$.

Calcule l'âge des personnes sur cette photo. Complète le tableau.

	Papa	Maman	Inès	François	Mamie
Age actuel	36 ans	34 ans	8 ans	7 ans	67 ans
Age sur la photo					

71



72

Maman achète un ordinateur à 350€ pour la maison, une poupée à 35€ pour Lisa et un camion de pompier à 46€ pour Alex.

Combien a-t-elle dépensé ?



72

Maman achète un ordinateur à 350€ pour la maison, une poupée à 35€ pour Lisa et un camion de pompier à 46€ pour Alex.

Combien a-t-elle dépensé ?



72

Maman achète un ordinateur à 350€ pour la maison, une poupée à 35€ pour Lisa et un camion de pompier à 46€ pour Alex.

Combien a-t-elle dépensé ?

