

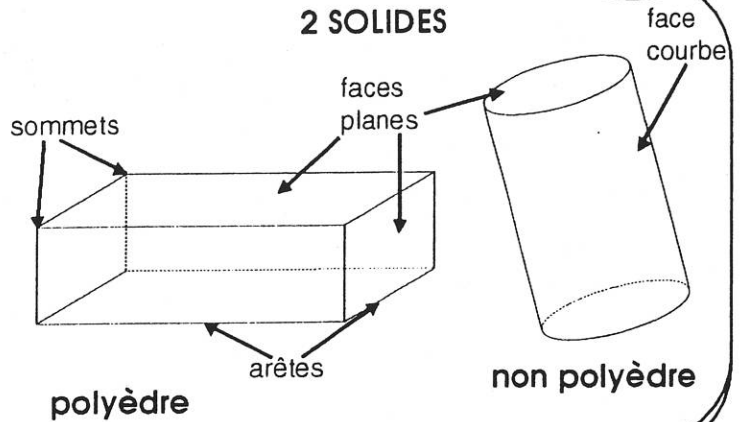
Les solides - Les polyèdres

5+3

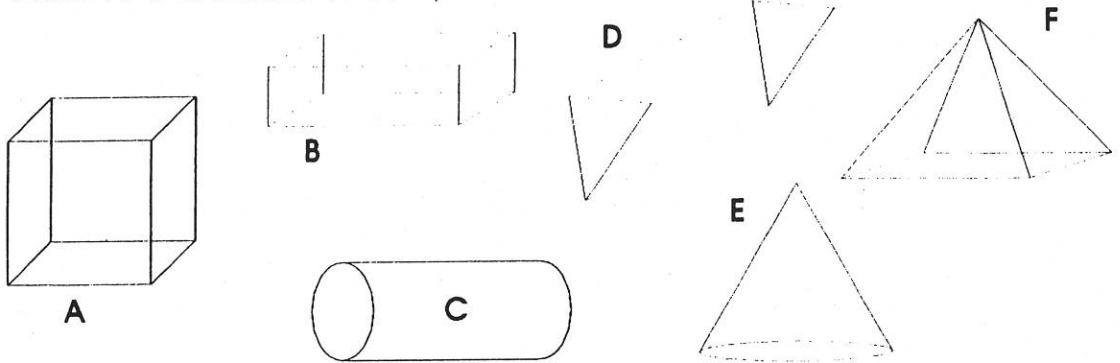
L'ESSENTIEL

- Un **solide** occupe un certain volume. Ses **faces** peuvent être **planes** ou **courbes**.

- Un solide dont toutes les faces sont planes s'appelle un **polyèdre**. Pour le décrire, on se sert des mots **face**, **sommet** et **arête**.



• Observe ces solides et complète le tableau :



	Nb de faces	Faces : polygones			Faces : non polygones	
		carrés	rectangles	triangles	disques	autres
A						
B						
C						
D						
E						
F						

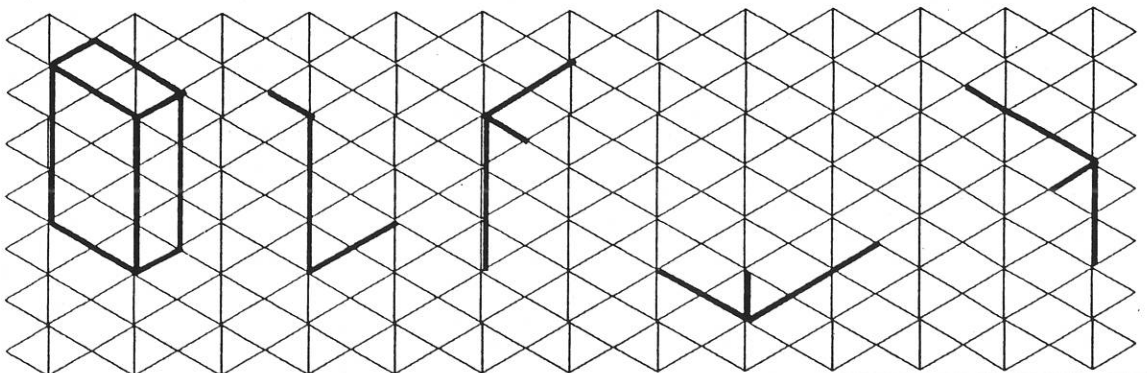
DEFI 1



DEFI 2



• Complète les quatre représentations inachevées du pavé :



Vérifie tes réponses, puis colorie le clown qui correspond à chaque défi réussi.