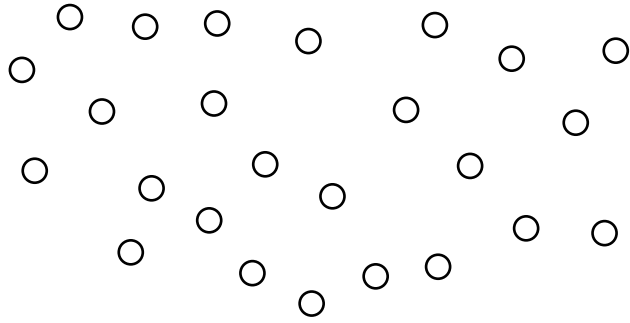


Zoé a cassé son collier de **28 perles**, elle les compte pour savoir si elle a retrouvé toutes ses perles.


Fais des paquets de 10 et écris le nombre de perles trouvées.



Zoé a retrouvé _____ perles. Il lui manque _____ perles

Zoé a cassé son collier de **34 perles**, elle les compte pour savoir si elle a retrouvé toutes ses perles.


Fais des paquets de 10 et écris le nombre de perles trouvées.



Zoé a retrouvé _____ perles. Il lui manque _____ perles

Zoé a cassé son collier de **32 perles**, elle les compte pour savoir si elle a retrouvé toutes ses perles.


Fais des paquets de 10 et écris le nombre de perles trouvées.



Zoé a retrouvé _____ perles. Il lui manque _____ perles

Zoé a cassé son collier de **39 perles**, elle les compte pour savoir si elle a retrouvé toutes ses perles.

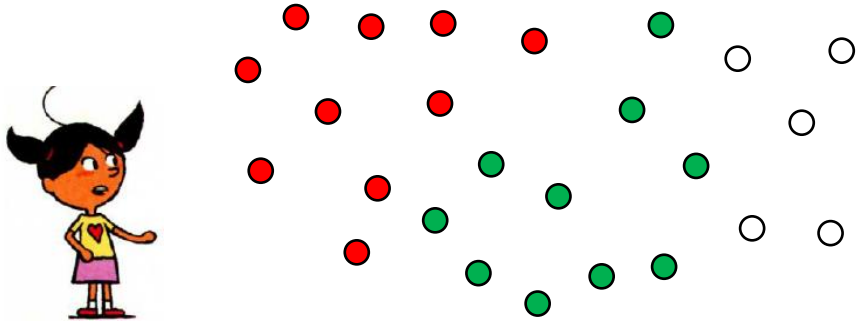
Fais des paquets de 10 et écris le nombre de perles trouvées.



Zoé a retrouvé _____ perles. Il lui manque _____ perles

Zoé a cassé son collier de **28 perles**, elle les compte pour savoir si elle a retrouvé toutes ses perles.

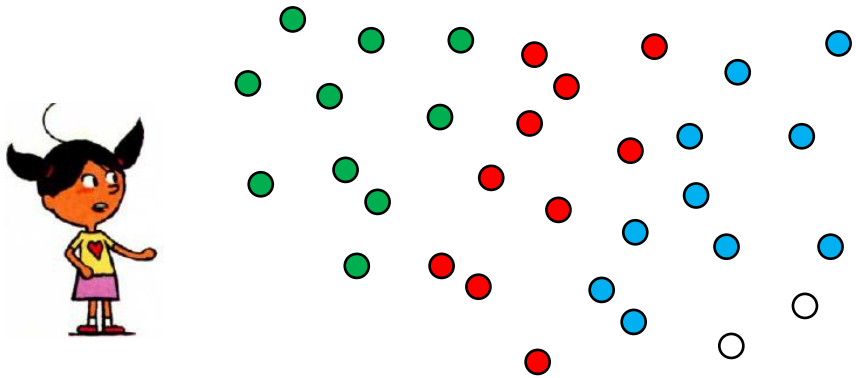
Fais des paquets de 10 et écris le nombre de perles trouvées.



Zoé a retrouvé _____ perles. Il lui manque _____ perles

Zoé a cassé son collier de **34 perles**, elle les compte pour savoir si elle a retrouvé toutes ses perles.

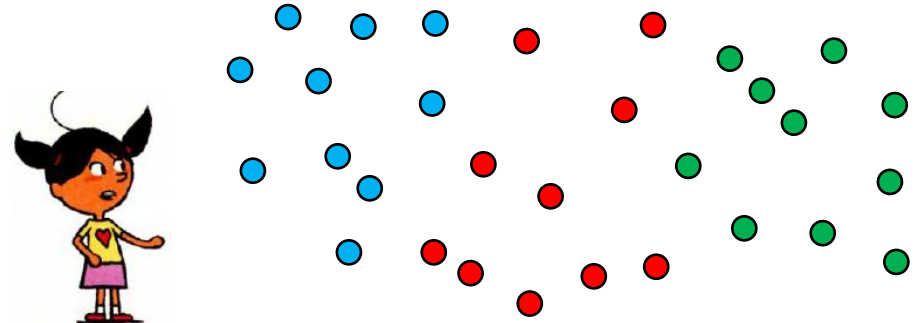
Fais des paquets de 10 et écris le nombre de perles trouvées.



Zoé a retrouvé _____ perles. Il lui manque _____ perles

Zoé a cassé son collier de **31 perles**, elle les compte pour savoir si elle a retrouvé toutes ses perles.


Fais des paquets de 10 et écris le nombre de perles trouvées.



Zoé a retrouvé _____ perles. Il lui manque _____ perles

Zoé a cassé son collier de **39 perles**, elle les compte pour savoir si elle a retrouvé toutes ses perles.

Fais des paquets de 10 et écris le nombre de perles trouvées.



Zoé a retrouvé _____ perles. Il lui manque _____ perles