

# Mathématiques CP - Année 2016/2017 - Bilan 7

Date : \_\_\_\_\_

Ton prénom : \_\_\_\_\_

1 Ecris les nombres dictés.

●     ■     ★     ☾     ♥     ▲

2 Ecris les réponses.

●     ■     ★     ☾     ♥     ▲

3 Complète.

$9 + 4 = \dots\dots$	$6 + 7 = \dots\dots$	$8 + 8 = \dots\dots$	$6 + 8 = \dots\dots$
$3 + 7 = \dots\dots$	$6 + 5 = \dots\dots$	$4 + 9 = \dots\dots$	$7 + 7 = \dots\dots$



4 Complète

Je pars de 7, j'avance de 2, j'arrive à .....

Je pars de 6, je recule de 3, j'arrive à .....

Pour aller de 7 à 10, il faut avancer de .....

Pour aller de 5 à 2, il faut reculer de .....

*J'avance de 2.*

5 Complète.



0  $\xrightarrow{+1}$    $\xrightarrow{+10}$    $\xrightarrow{+10}$    $\xrightarrow{+1}$    $\xrightarrow{+1}$    $\xrightarrow{+1}$    $\xrightarrow{+10}$    $\xrightarrow{+10}$

8  $\xrightarrow{+1}$    $\xrightarrow{+10}$    $\xrightarrow{+1}$    $\xrightarrow{+1}$    $\xrightarrow{+1}$    $\xrightarrow{+10}$    $\xrightarrow{+10}$    $\xrightarrow{+1}$

6 Ecris ce qu'affiche le compteur de Gribouille si on ajoute 1 à chaque fois.


**7**  Complète.

3 dizaines = ..... unités

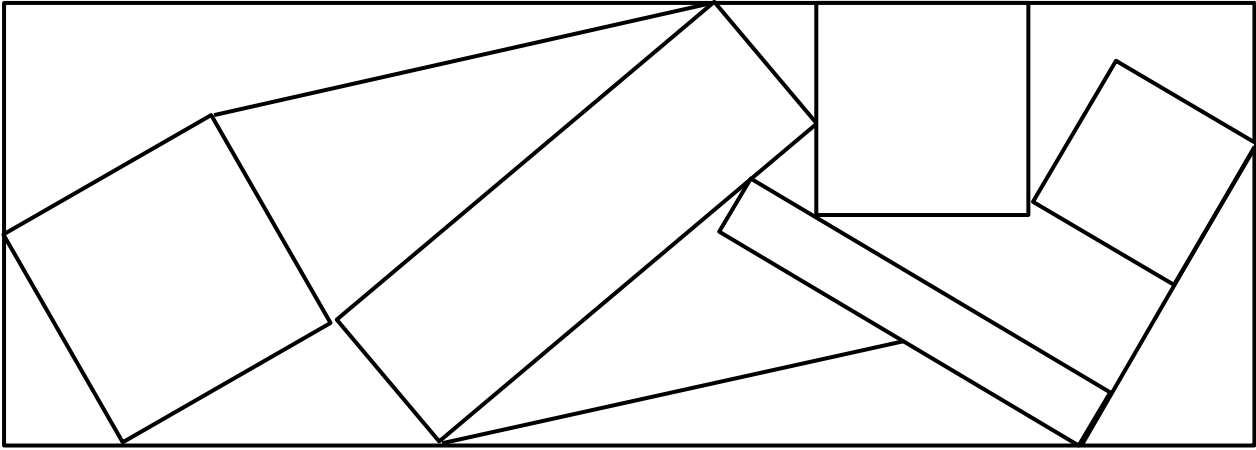
2 dizaines et 10 unités = ..... unités


 1 dizaine et 11 unités = ..... unités

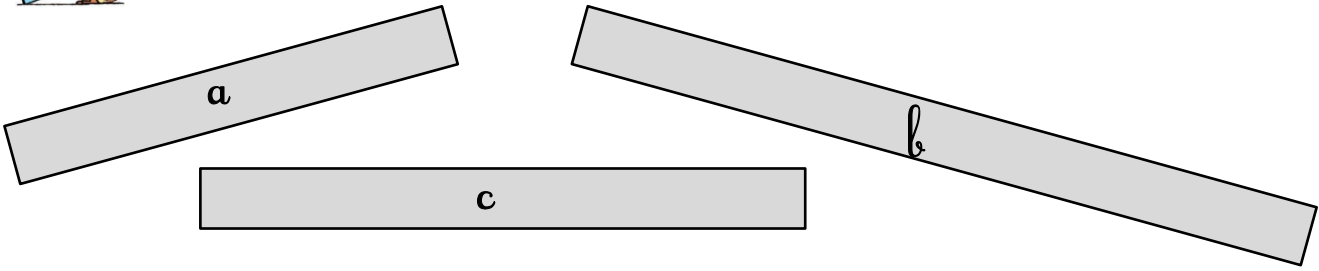
2 dizaines et 15 unités = ..... unités

**8**  Colorie chaque figure avec la couleur demandée.

Rouge : triangle      vert : carré      bleu : rectangle      jaune : autre




**9**  Utilise la règle blanche pour mesurer la longueur de chaque bande.



La bande **a** mesure ..... unités.      La bande **b** mesure ..... unités.

La bande **c** mesure ..... unités.

**10**  Sur cette ligne, trace un trait de 6 unités avec la règle blanche.

