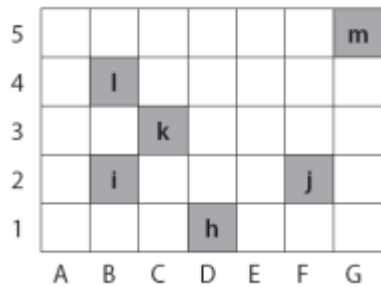


Evaluation 1 : "Se repérer sur un quadrillage"

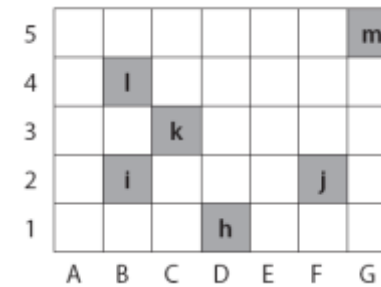
Ecris les coordonnées de chaque case grisée dans le tableau:



h	i	j	k	l	m
(..... ;)	(..... ;)	(..... ;)	(..... ;)	(..... ;)	(..... ;)

Evaluation 1 : "Se repérer sur un quadrillage"

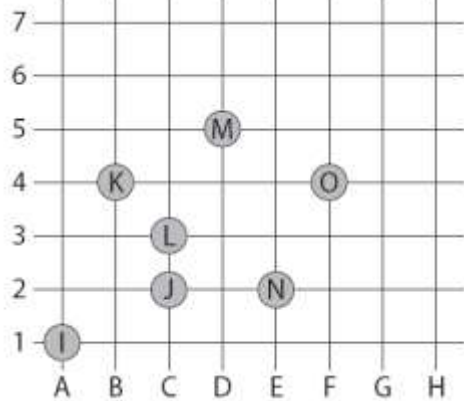
Ecris les coordonnées de chaque case grisée dans le tableau:



h	i	j	k	l	m
(..... ;)	(..... ;)	(..... ;)	(..... ;)	(..... ;)	(..... ;)

Evaluation 2 : "Se repérer sur un quadrillage"

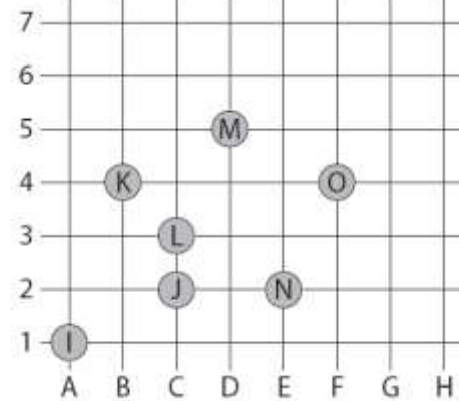
Ecris les coordonnées de chaque lettre dans le tableau:



I	(..... ;)
J	(..... ;)
K	(..... ;)
L	(..... ;)
M	(..... ;)
N	(..... ;)
O	(..... ;)

Evaluation 2 : "Se repérer sur un quadrillage"

Ecris les coordonnées de chaque lettre dans le tableau:



I	(..... ;)
J	(..... ;)
K	(..... ;)
L	(..... ;)
M	(..... ;)
N	(..... ;)
O	(..... ;)

I	(..... ;)
---	-----------------

J	(____ ; ____)
K	(____ ; ____)
L	(____ ; ____)
M	(____ ; ____)
N	(____ ; ____)
O	(____ ; ____)