
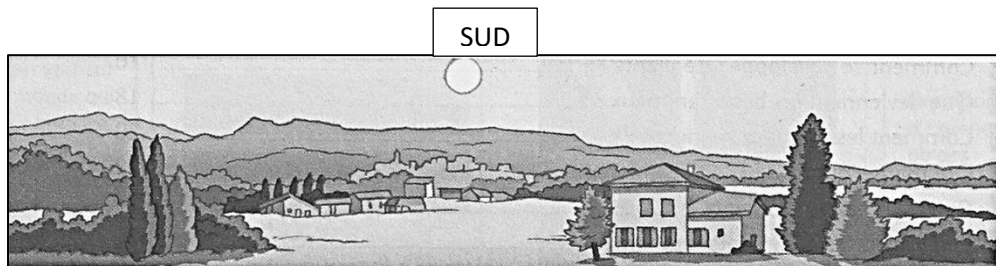




Comment la nuit vient-elle ?

La Terre fait un tour sur elle-même en 24 heures.

Il fait **jour**, le soleil se lève à l'EST puis se couche à l'OUEST.





Il fait **nuit**, le soleil a disparu à l'horizon.



Relie chaque phrase au moment de la journée qui correspond.

- Je peux voir le Soleil haut dans le ciel . . . le lever du soleil
- Les étoiles brillent dans le ciel noir. . . le jour
- Le ciel devient sombre, les ombres sont longues. . . le coucher du soleil
- Le soleil apparaît doucement. . . la nuit

Observe les dessins : la lampe représente le Soleil et la gommette représente un personnage.



C'est le _____ c'est la _____

Quand le _____ éclaire l'endroit de la Terre où je suis, c'est le _____.

Quand le soleil n'éclaire pas l'endroit de la Terre où je suis, c'est la _____.