



juste



faux



absence de réponse

Répartition des réponses

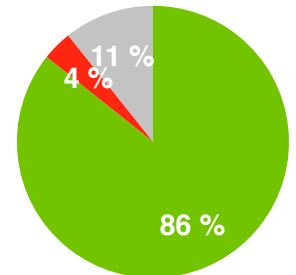
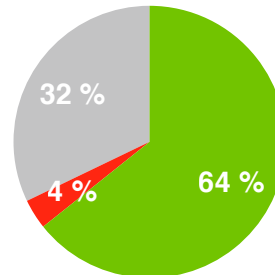
après recherche individuelle

après recherche à plusieurs

Inès a écrit le résultat d'une soustraction, puis elle a caché deux chiffres.

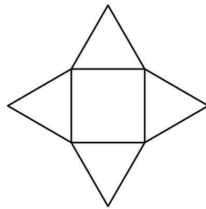
Quelle est la somme des deux chiffres cachés ?

$$\blacksquare 3 - 2 \blacksquare = 25$$

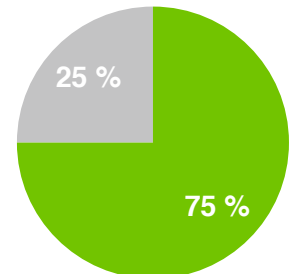
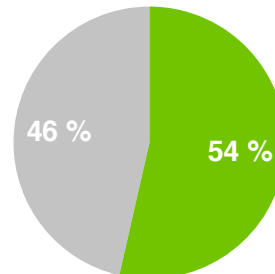


Une étoile est formée à partir de 4 triangles équilatéraux autour d'un carré.

Le périmètre du carré est 36 cm.



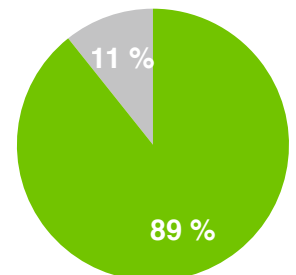
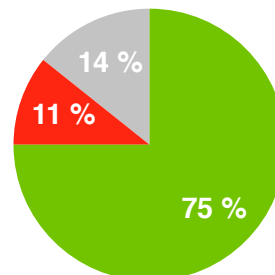
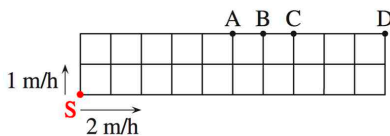
Quel est le périmètre de l'étoile ?



Un jardin est partagé en carré d'un mètre de côté. 2 escargots en font le tour en partant de S dans des directions différentes.

Le plus lent parcourt 1 m par heure. Le plus rapide parcourt 2 m par heure.

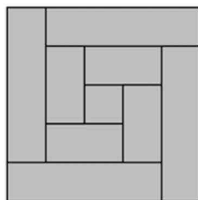
Sur quel point se rencontreront-ils ?



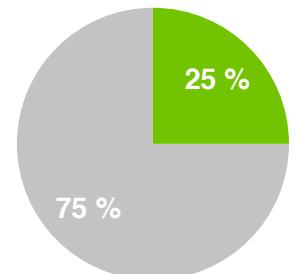
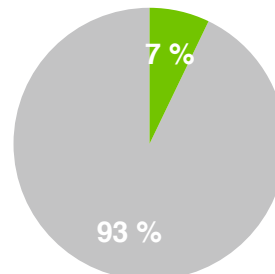
Une planche de 8 cm de large a été découpée en 9 morceaux rectangulaires.

L'un des morceaux est carré.

Philippe a assemblé les morceaux comme le montre la figure.



Quelle était la longueur de la planche ?



Les cinq masses des cinq boules sont :

30 g, 50 g, 50 g, 50 g, 80 g.



Quelle boule pèse 30 g ?

