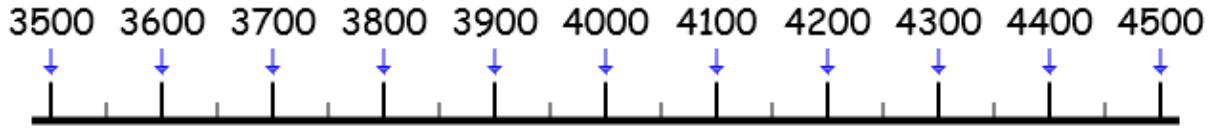


Mémo 3

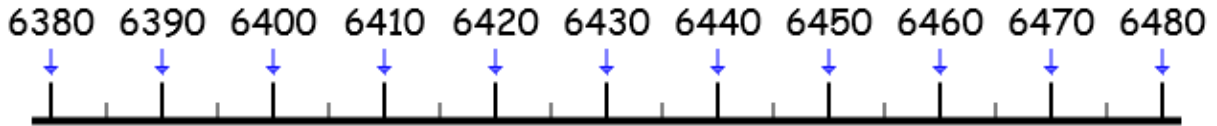
Exercice 1 : Relie ces nombres à leur place sur la frise.

★



4102 3793 3618 4119 3815 3570

★★



6385 6465 6402 6461 6419 6386 6450

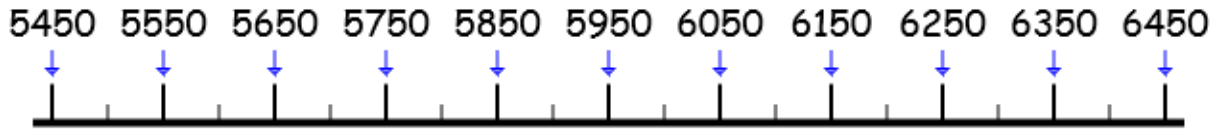
Exercice 2 : Complète le tableau de numération.

| | | |
|------------|-----------------------|--|
| 2342 | $2000 + 300 + 40 + 2$ | |
| ★ 4523 | | |
| ★★ 8271 | | |
| ★★ 9035 | | |

Mémo 3

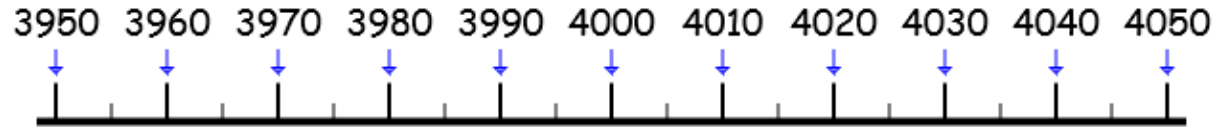
Exercice 1 : Relie ces nombres à leur place sur la frise.

★★



- 6125
- 6381
- 6394
- 6453
- 6403
- 6317
- 6451

★



- 4011
- 3982
- 3993
- 4039
- 3965
- 3957
- 4033

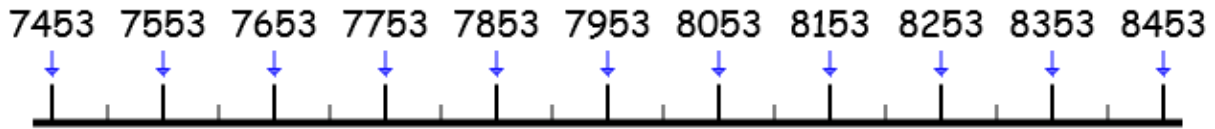
Exercice 2 : Complète le tableau de numération.

| | | |
|------------|-----------------------|--|
| 2342 | $2000 + 300 + 40 + 2$ | |
| ★ 5064 | | |
| ★★ 1425 | | |
| ★★ 9736 | | |

Mémo 3

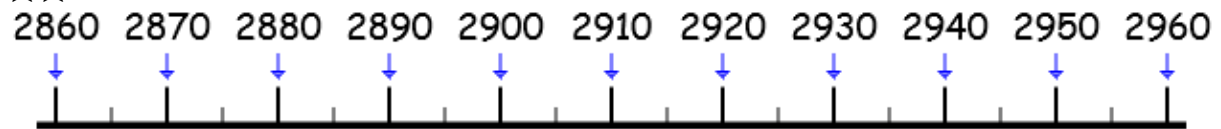
Exercice 1 : Relie ces nombres à leur place sur la frise.

★



8073 7877 8103 8089 7503 7741 7646

★★



2886 2863 2918 2879 2901 2914 2901

Exercice 2 : Complète le tableau de numération.

| | | |
|------------|-----------------------|--|
| 2342 | $2000 + 300 + 40 + 2$ | |
| ★ 6351 | | |
| ★★ 2725 | | |
| ★★ 3028 | | |

Mémo 3

Exercice 1 : Relie ces nombres à leur place sur la frise.

★★

6462 6562 6662 6762 6862 6962 7062 7162 7262 7362 7462



6924

6661

6949

7159

6586

6564

7017

★

8450 8460 8470 8480 8490 8500 8510 8520 8530 8540 8550



8508

8477

8543

8533

8477

8597

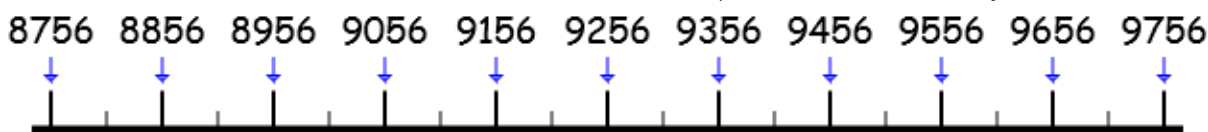
8459

Exercice 2 : Complète le tableau de numération.

| | | |
|------------|-----------------------|--|
| 2342 | $2000 + 300 + 40 + 2$ | |
| ★ 8361 | | |
| ★★ 3512 | | |
| ★★ 3524 | | |

Mémo 3

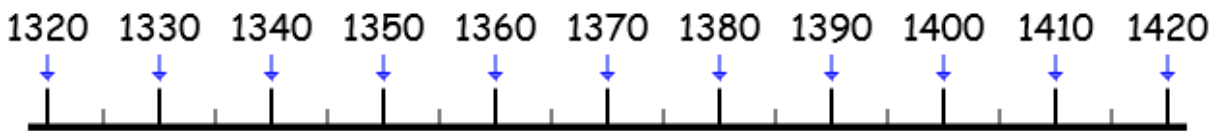
Exercice 1 : Relie ces nombres à leur place sur la frise.



★

9363 9607 9350 9730 9508 8996 9725

★★



1371 1797 1324 1358 1362 1383 1354

Exercice 2 : Complète le tableau de numération.

| | | |
|------------|-----------------------|--|
| 2342 | $2000 + 300 + 40 + 2$ | |
| ★ 8364 | | |
| ★★ 3624 | | |
| ★★ 7397 | | |

MATHS CE2 NUMIOF

Mémo 3

Exercice 1 : Relie ces nombres à leur place sur la frise.

★★

2740 2840 2940 3040 3140 3240 3340 3440 3540 3640 3740



3001 3115 3728 3499 3521 3571 3477

★

3420 3430 3440 3450 3460 3470 3480 3490 3500 3510 3520



3431 3424 3472 3511 3508 3435 3497

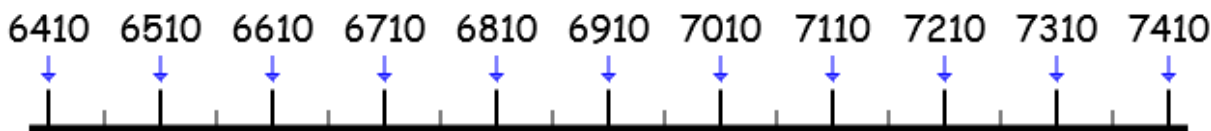
Exercice 2 : Complète le tableau de numération.

| | | |
|------------|-----------------------|--|
| 2342 | $2000 + 300 + 40 + 2$ | |
| ★ 7646 | | |
| ★★ 9852 | | |
| ★★ 4043 | | |

Mémo 3

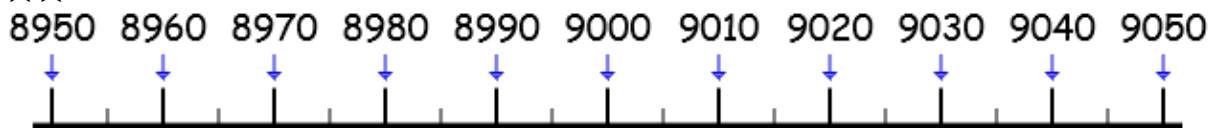
Exercice 1 : Relie ces nombres à leur place sur la frise.

★



6988 6617 7272 6720 7162 6946 6632

★★



8984 8998 9015 9033 9041 8965 8922

Exercice 2 : Complète le tableau de numération.

| | | |
|------------|-----------------------|--|
| 2342 | $2000 + 300 + 40 + 2$ | |
| ★ 7643 | | |
| ★★ 1432 | | |
| ★★ 2058 | | |

MATHS CE2 NUM10H

Mémo 3

Exercice 1 : Relie ces nombres à leur place sur la frise.

★★



4693 4224 4058 4439 3906 4018 4700

★



4421 4404 4383 4416 4399 4425 4397

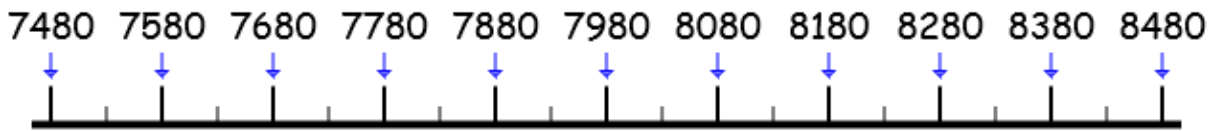
Exercice 2 : Complète le tableau de numération.

| | | |
|------------|-----------------------|--|
| 2342 | $2000 + 300 + 40 + 2$ | |
| ★ 9864 | | |
| ★★ 4241 | | |
| ★★ 7574 | | |

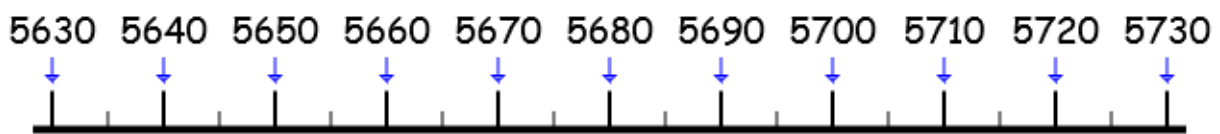
ÉVALUATION CE2 NUM10

Compétence : Décomposer les nombres jusqu'à 10 000 + Situer les nombres jusqu'à 10 000 sur une file numérique

Exercice 1 : Relie ces nombres à leur place sur la frise.



| | | | | | | |
|------|------|------|------|------|------|------|
| 4468 | 4443 | 4396 | 4465 | 4385 | 4459 | 4403 |
|------|------|------|------|------|------|------|



| | | | | | | |
|------|------|------|------|------|------|------|
| 5718 | 5681 | 5652 | 5663 | 5679 | 5648 | 5635 |
|------|------|------|------|------|------|------|

Exercice 2 : Complète le tableau de numération.

| | | |
|------|-----------------------|--|
| 2342 | $2000 + 300 + 40 + 2$ | |
| 8754 | | |
| 6053 | | |
| 7642 | | |

