






Mathématiques

M1.  RELIE les nombres à leur écriture.

- | | |
|----|----------|
| 1● | ● quatre |
| 5● | ● deux |
| 3● | ● trois |
| 2● | ● un |
| 4● | ● cinq |

M2.  COMPLETE les images en comptant ^{1 2 3 4 5}  le nombre d'objets.





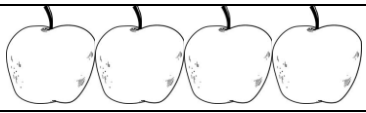
M3. Colorie COLORIE l'image en fonction du tableau





| | |
|--|--|
| | |
| | |
| | |
| | |
| | |

Mathématiques

M4.  LIS le tableau et *mot...*  COMPLETE les données manquantes.

| | | |
|--|---|---|
|  |  |  |
| 2€ | 4€ | 5€ |

 Maman achète 3 , elle paye€.

 Pierre achète 1 , il paye€.

 Mamie achète , elle paye 5€.

M5. *mot...*  COMPLETE la suite des nombres.

2-.....-4-.....-6

.....-8-.....-10

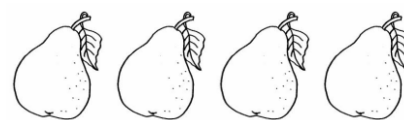
1-2-.....-.....

un -- trois

sept -- neuf

7--.....-10


M6. ¹²³⁴⁵  COMPTE le nombre d'objets




Mathématiques

M7. COLORIE la collection où il y a autant d'objets que le nombre indiqué

M8.  ENTOURE les collections où il y a plus (+) de 5 objets

M9.  ENTOURE les collections où il y a moins (-) de 5 objets

M10.  DESSINE autant d'objets que le nombre demandé