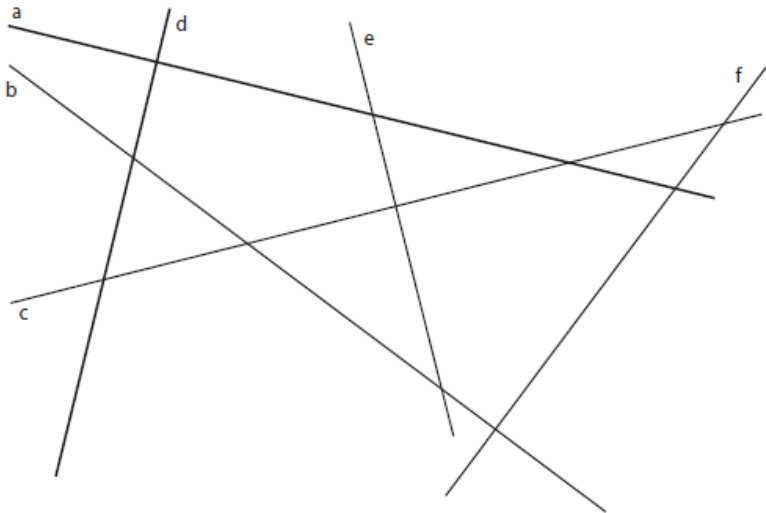


Exercices droites parallèles et perpendiculaires

1 Complète les phrases:

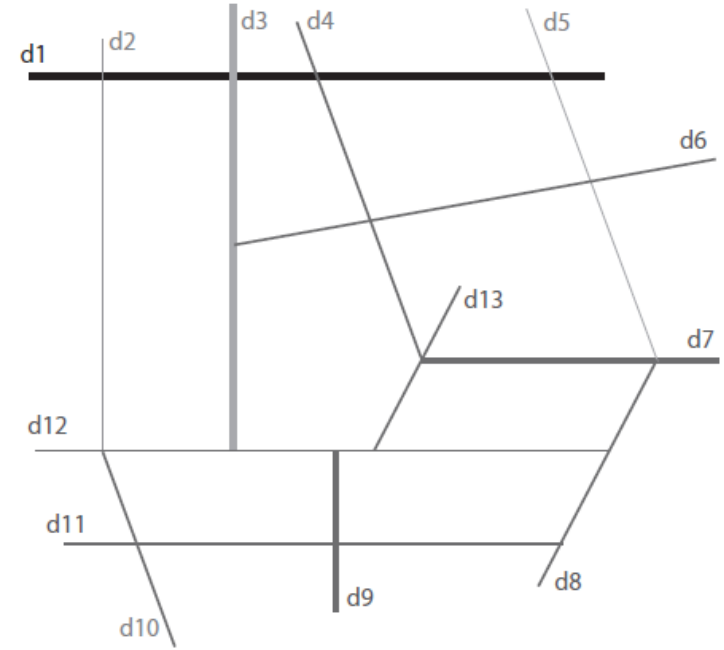
- Deux droites sont _____ si elles se coupent en formant un _____.
- Deux droites sont _____ si elles ne se croisent jamais. L'_____ entre ces deux droites est toujours le même.
- Deux droites _____ à une même troisième droite sont _____ entre elles.

2 Marque les angles droits dans cette figure




3

Dans cette figure il y a 4 groupes de droites parallèles: à toi de les retrouver. Prends 4 couleurs différentes pour repasser de la même couleur les droites parallèles entre elles.



4

Trace une droite (d2) perpendiculaire à (d1) et passant par A. Trace ensuite une droite (d3) perpendiculaire à (d2).



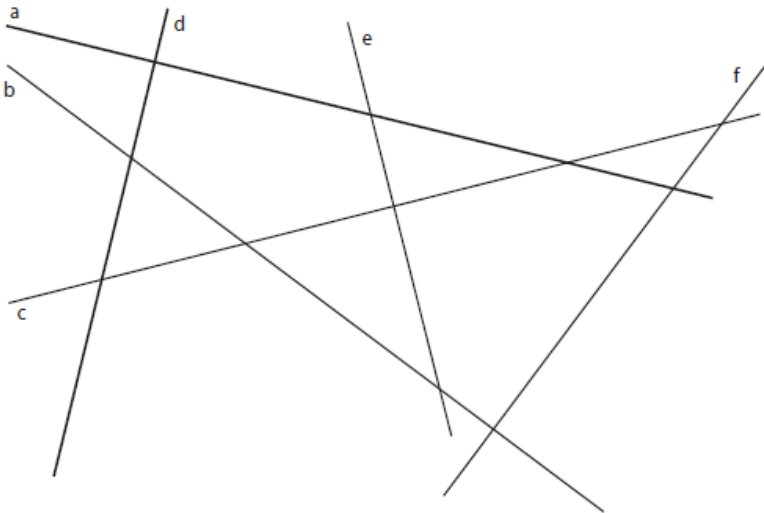
Que peux-tu dire de (d2) et (d3)?

Exercices droites parallèles et perpendiculaires

1 Complète les phrases:

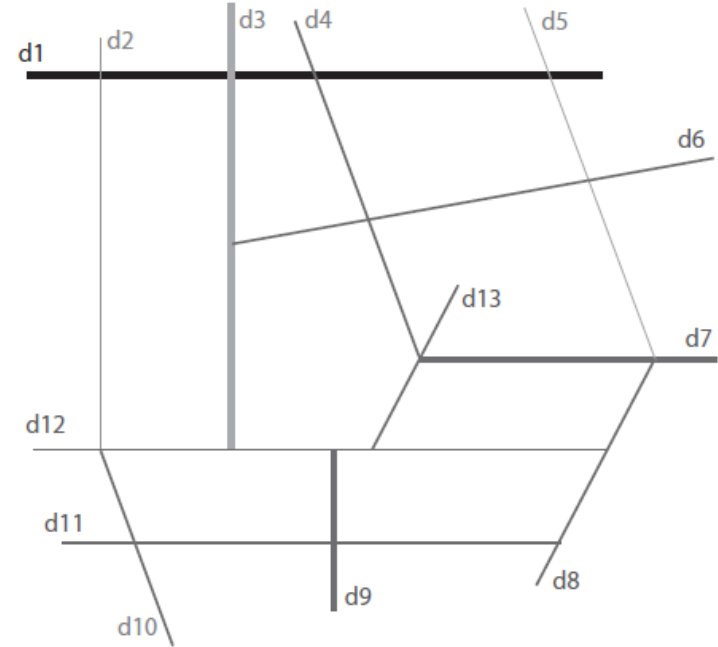
- Deux droites sont _____ si elles se coupent en formant un _____.
- Deux droites sont _____ si elles ne se croisent jamais.
L' _____ entre ces deux droites est toujours le même.
- Deux droites _____ à une même troisième droite sont _____ entre elles.

2 Marque les angles droits dans cette figure



3

Dans cette figure il y a 4 groupes de droites parallèles: à toi de les retrouver. Prends 4 couleurs différentes pour repasser de la même couleur les droites parallèles entre elles.



4

Trace une droite (d2) perpendiculaire à (d1) et passant par A. Trace ensuite une droite (d3) perpendiculaire à (d2).



Que peux-tu dire de (d3) et (d1)?