

# 6

## PLAINES, COLLINES ET PLATEAUX.


### Fiche EXERCICE

Date : .....

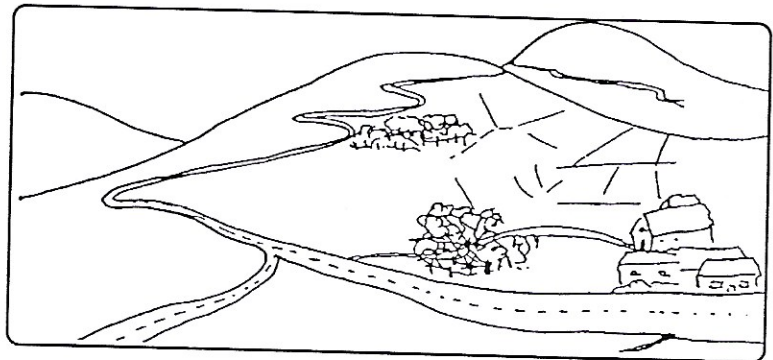
NOM-Prénom : .....

1 - Complète les phrases avec les mots suivants : altitude, étendues presque plates, bosses aux pentes douces

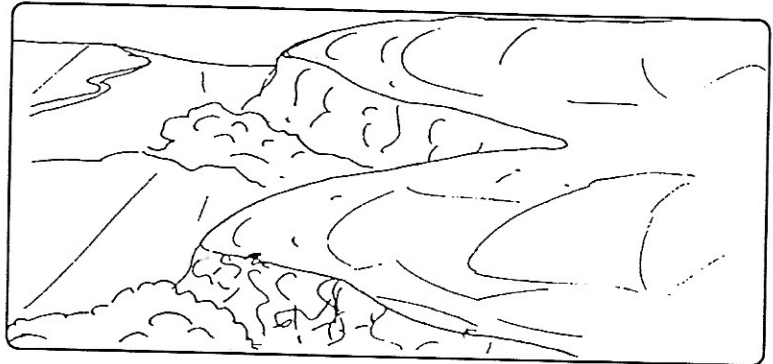
Les plaines sont des \_\_\_\_\_ , peu élevées au dessus de la mer. On y trouve les cultures, les routes, les chemins de fer et les villes.



Les collines sont plus élevées. Ce sont des \_\_\_\_\_ . On y trouve aussi des cultures. Les routes qui les traversent sont sinueuses.



Les plateaux sont des plaines que l'on trouve en \_\_\_\_\_. Leur climat y est souvent rude. Des rivières y creusent des vallées et des gorges.



2 - Sur ce dessin, colorie les montagnes en marron, les plateaux en rouge, les collines en jaune, les plaines en vert et la mer en bleu.

