

Tracer un rectangle.

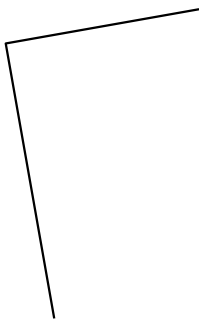
A



Résultats

- Bravo !
- Dommage, tu y es presque !
- Tu dois encore t'entraîner.

⇒ Trace un rectangle de longueur 6 cm et de largeur 3 cm.



Tracer un rectangle.

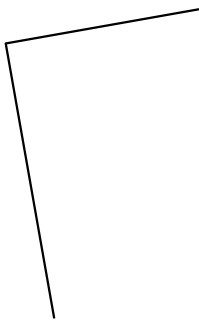
A



Résultats


- Bravo !
- Dommage, tu y es presque !
- Tu dois encore t'entraîner.

⇒ Trace un rectangle de longueur 6 cm et de largeur 3 cm.



Tracer un rectangle.

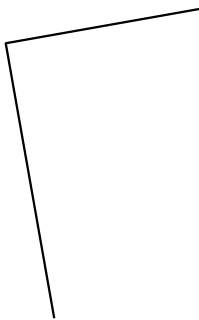
B



Résultats


- Bravo !
- Dommage, tu y es presque !
- Tu dois encore t'entraîner.

⇒ Trace un rectangle de longueur 7 cm et de largeur 3 cm.



Tracer un rectangle.

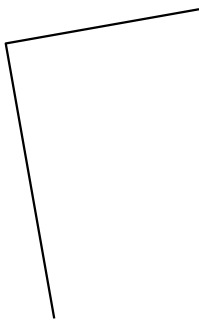
B



Résultats

- Bravo !
- Dommage, tu y es presque !
- Tu dois encore t'entraîner.

⇒ Trace un rectangle de longueur 7 cm et de largeur 3 cm.



Tracer un rectangle.

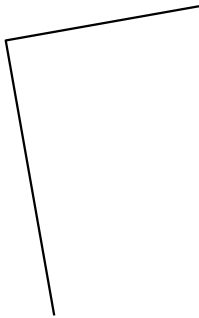
C



Résultats

- Bravo !
- Dommage, tu y es presque !
- Tu dois encore t'entraîner.

⇒ Trace un rectangle de longueur 5 cm et de largeur 4 cm.



Tracer un rectangle.

C



Résultats

- Bravo !
- Dommage, tu y es presque !
- Tu dois encore t'entraîner.

⇒ Trace un rectangle de longueur 5 cm et de largeur 4 cm.

